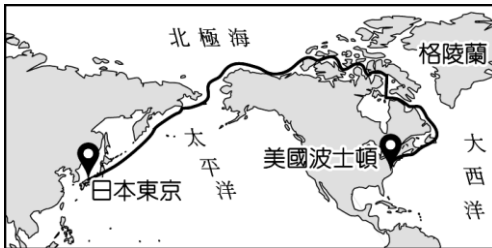


112 學年度第一學期一年級補行評量－社會

一、選擇：

1. ( ) 全球暖化使得北極海面冰層迅速消融，原本冰封的「西北航道」因此開通，如附圖所示。科學家預估，目前僅夏季通航的西北航道，最快於西元 2050 年開始四季都可通航，不僅縮短航行距離，也為周邊國家帶來商機。請問：位於哪一洲的國家，可能無法擁有西北航道所帶來的方便性？ (A) 亞洲 (B) 歐洲 (C) 北美洲 (D) 中南美洲。



《答案》D

2. ( ) 七年一班四位同學針對全球海陸分布特性提出看法，下列何者說法完全正確？  
 (A) 鴻呈：「海洋與陸地面積比約為 3：7。」  
 (B) 佑元：「三大洋中太平洋的面積最小。」  
 (C) 嘉寶：「北半球的陸地面積較南半球大。」  
 (D) 崇二：「全球一半以上陸地位於南半球。」

《答案》C

3. ( ) 林義杰打算參加在臺東舉辦的路跑活動，這次主辦單位規畫的路線總長度是 20 公里，他拿了一張比例尺是 1：500,000 的地圖，在圖上的路線大約是多長？ (A) 2 公分 (B) 4 公分 (C) 20 公分 (D) 40 公分。

《答案》B

4. ( ) 西元 2017 年蔡英文總統展開「永續南島、攜手共好」的太平洋邦交國訪問行程，先過境夏威夷(154.66°W~162°W,18.92°N~29°N)再依序抵達馬紹爾群島(171.26°E,7.05°N)、吐瓦魯(176°W~179°W,5°S~10°S)索羅門群島(155°E~168°E,8°S~12°S)三個邦交國，請問：總統依序經過圖中的哪些地點？ (A) 甲→乙→丙→丁 (B) 丁→乙→丙→甲 (C) 甲→丙→乙→丁 (D) 丁→丙→乙→甲。



《答案》B

詳解：從四個小島的經緯度可以判斷先後順序為先北半球、西半球，再飛北半球、東半球，再往南半球移動。

5. ( )中華民國外交部介紹臺灣時寫到：「全世界海洋生物物種約有 22~23 萬種，臺灣面積雖小，海洋生物的種類卻達 1 萬 2,000~1 萬 3,000 種之多。海洋資源如此豐富的原因，是因臺灣獨特的地理位置」。請問：這與下列哪一個因素最相關？ (A)臺灣位於亞洲大陸邊緣 (B)位於寒暖流交會的位置 (C)是溫、熱帶的交界位置 (D)有古老的冰河地形。

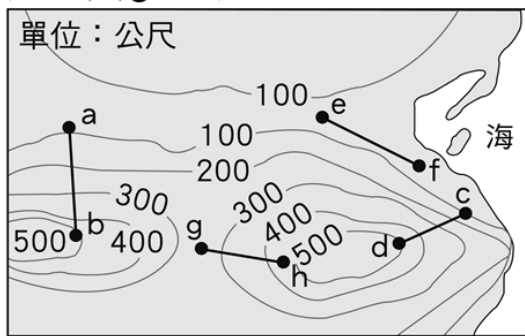
《答案》B

詳解：寒暖流交會帶來豐富海洋生態資源。

6. ( )下列是臺灣西部的主要盆地及平原，若由北向南排列，何者正確？ (甲)濁水溪沖積平原 (乙)嘉南平原 (丙)臺北盆地 (丁)臺中盆地 (A)甲乙丙丁 (B)甲丁乙丙 (C)丙甲丁乙 (D)丙丁甲乙。

《答案》D

7. ( )附圖的等高線地形圖中，哪一個線段的高低起伏變化最平緩？ (A)ab 線段 (B)cd 線段 (C)ef 線段 (D)gh 線段。



《答案》C

8. ( )近年來，臺灣各地常有土石流災害發生。除了地質脆弱、降雨強度大等因素外，土石流災害頻傳的原因，也和下列哪一項人類活動有關？ (A)山坡地不當的開發利用 (B)西南沿海地區超抽地下水 (C)沿海溼地開發為工業區 (D)河川上游廣設攔沙壩。

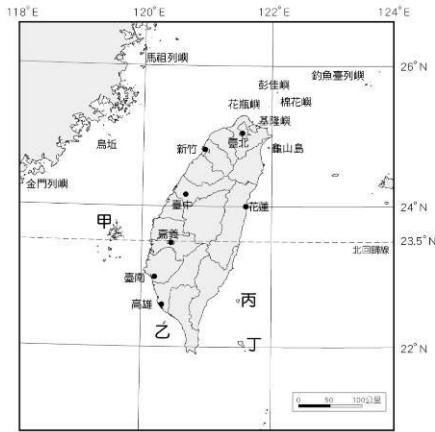
《答案》A

詳解：近年來，由於山坡地超限使用，如：大量種植淺根高山蔬菜、開發高爾夫球場等，致使豪雨一來，經常在山區傳出土石流災情。

9. ( )西元 1626 年西班牙軍隊抵達今臺灣東北部的福隆附近，隨後將此地命名為「Santiago」，後來音譯為現在的三貂角。之後，西班牙人又陸續到基隆等地，逐步占領北臺灣。請問：西班牙人最早登陸臺灣的地點，當地的海岸類型最可能是下列何者？ (A)沙岸 (B)斷層海岸 (C)岬灣海岸 (D)珊瑚礁海岸。

《答案》C

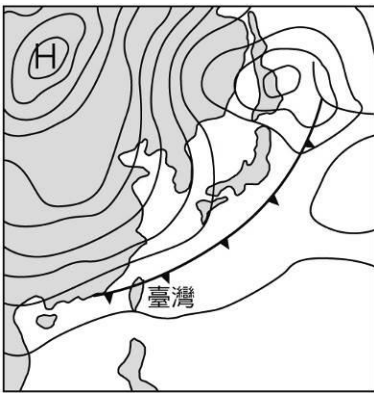
10. ( )小新在跨年時計畫到臺灣離島旅遊，看了網路介紹玩樂攻略，非常心動。「1.為世界級的海底溫泉之一；2.可以邊泡湯邊聽浪濤聲與仰望星空；3.每年會舉辦朝日跨年迎曙光的活動；4.能以溫泉煮出各種美食料理；5.在清晨泡湯欣賞眼前的海上日出景觀」。請問：文中描述的離島位於圖中何處？ (A)甲 (B)乙 (C)丙 (D)丁。



《答案》C

詳解：文章提及海底溫泉，丙為綠島，是世界三大海底溫泉其中之一。

11. ( )下列為臺灣附近的地面天氣圖，由圖可看出當時臺灣的天氣現象為何？ (A)暖氣團往臺灣前進 (B)滯留鋒在臺灣上空徘徊 (C)冷鋒正從臺灣經過 (D)颱風正緩步朝臺灣靠近。



《答案》C

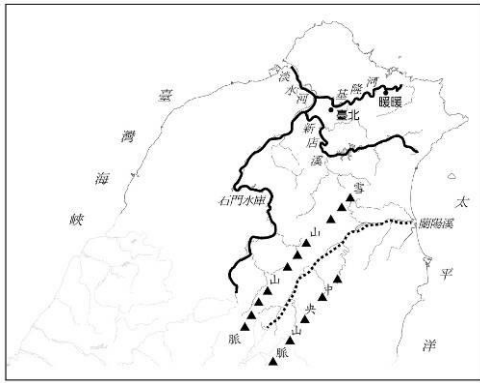
詳解：在天氣圖上冷鋒是藍色三角形為記號，由圖可知臺灣有冷鋒經過。

12. ( )寒假期間，城城一家人從臺北出發到高雄遊玩，出發時，因天氣寒冷飄雨，故穿上保暖衣物及攜帶雨具；但到了高雄之後，當地艷陽高照、涼爽舒適，使他們紛紛脫下身上禦寒的衣物。請問：城城到高雄後，天氣為何會有如此的改變？ (A)臺北氣壓較高雄高，冷空氣籠罩上空 (B)高雄較臺北緯度低，氣溫會較臺北高 (C)高雄面迎冬季季風，氣候較舒適宜人 (D)臺北屬於盆地地形，水氣較容易聚集。

《答案》B

詳解：(A)臺灣範圍較小，各地氣壓差距不大。(C)臺灣冬季主要風向為東北季風，北部位於迎風面。(D)盆地特色與臺北冬季氣候特色無關。

13. ( )附圖是臺灣北部區域地圖，粗黑線是淡水河水系；虛線是蘭陽溪水系。小新在地理課上向全班同學解說北部區域河川特色時，其中哪些敘述正確？ (甲)新店溪是主流 (乙)雪山山脈是淡水河流域與蘭陽溪流域的分水嶺 (丙)河川都是向東注入太平洋 (丁)暖暖的集水區範圍比臺北小 (戊)石門水庫位於支流 (A)乙丁戊 (B)甲乙丙 (C)乙丙丁 (D)甲丁戊。



《答案》A

詳解：(甲)淡水河為主流，新店溪位於淡水河支流。(丙)淡水河注入臺灣海峽，蘭陽溪向東注入太平洋。

14. ( )臺灣彰化縣、雲林縣、嘉義縣、屏東縣4個縣市，為全臺「地層下陷危險區」，而地層下陷與超抽地下水有關。關於此現象的相關概念，下列何者正確？(甲)臺灣居民會以抽地下水的方式做為水源補注 (乙)上述臺灣地層下陷最嚴重的四區，皆是乾、雨季分明的區域 (丙)抽地下水本就是臺灣最常見的水資源開發方式 (丁)只要雨季來臨，地下水層的水資源就會得到補注，因此大量抽取沒有不妥 (A)甲乙 (B)乙丙 (C)丙丁 (D)甲丁。

《答案》A

詳解：彰化、雲林、嘉義、屏東位於臺灣中南部，乾、雨季較分明，會使用地下水做為水源補助。(丙)臺灣最常見的水資源開發是以河川、興建水庫、攔河堰為主。(丁)抽地下水不能過度，以免造成地層下陷。

15. ( )同學們參加學校舉辦的「考古大歷險」活動，第一關打開錦囊，發現如下兩張線索卡。請問：線索卡的提示為何？



- (A)與地點相關——八里 (B)與地點相關——長濱 (C)與時代相關——舊石器 (D)與時代相關——新石器。

《答案》A

詳解：煉鐵為金屬器時代十三行文化(位於新北八里)重要特徵。

16. ( ) 以下為兩則有關原住民起源的傳說，關於兩則傳說的推論，下列何者最適當？

傳說一：太古時期，太陽神在大武山頂上的陶壺中產下了兩顆蛋，交由百步蛇守護。在溫暖陽光的照射下，兩顆蛋分別孵出了一男一女，這對男女便是我們的祖先。

傳說二：大武山上曾經生長著一根竹子，竹子裂開生出許多蛇，成長後化為人，便是我們的祖先。

(A) 這一定來自兩個不同的原住民族，因為兩則傳說沒有任何共同之處 (B) 不可能來自同一原住民族，因為有一個共同的起源傳說，才能被稱為同一族 (C) 可能為同一原住民族傳說，但因為資料紀錄有誤，才會衍生出其他的起源傳說 (D) 可能為同一原住民族，因為有眾多的部落分支，而有不同的起源傳說。

《答案》D

詳解：兩則皆為排灣族的起源傳說，事實上因為原住民族的部落眾多，因此容易有各種不同的起源傳說，也會受到其他原住民族的影響，而和不同族的原住民有類似的傳說。

17. ( ) 附圖是一張十七世紀某公司的標誌，這家公司主要的經營任務為何？ (A) 協助荷蘭政府管理亞洲地區的商務 (B) 管理澳門，專責處理對中國的貿易事項 (C) 與西班牙合作，一同拓展對日貿易機會 (D) 以馬尼拉為貿易根據地，擴展對日貿易。



《答案》A

18. ( ) 「西元 1635 年到 1640 年，鄭芝龍尚在醞釀勢力之時，他配合荷蘭人將明帝國貨物送往大員，而荷蘭人再將貨物運往日本。直到鄭芝龍勢力壯大，他直接與日本人貿易之後，荷蘭人的轉口貿易量銳減，變得更加仰賴島上的資源來獲取利益。」請問：以下相關敘述何者正確？ (A) 所謂「明帝國貨物」主要指中國產的香料與瓷器 (B) 「仰賴島上的資源」指的是布匹和蔗糖等產品 (C) 「荷蘭人將貨物運往日本」乃是為了換取當地所產的黃金 (D) 「鄭芝龍勢力壯大」的範圍擴及中國東南沿海、日本、東南亞與臺灣。

《答案》D

詳解：此題考的是十七世紀貿易網絡的狀況。(A) 錯在中國非香料的主要產地，宜改為絲綢；(B) 錯在當時臺灣布匹並非荷人出口商品；(C) 黃金應改為白銀。

19. ( )在某一次會議紀錄中，荷蘭聯合東印度公司的在臺長官嚴厲斥責了幾個南方部落的長老，因為他們雖然同意歸順於公司的統治，也同意接受基督教信仰，但是對於送部落中的孩童去上學一事卻過於消極，令人不滿。請問：荷蘭聯合東印度公司如此重視原住民教育的主要用意為何？ (A)為了培育在地的商業人才 (B)為了將原住民同化為荷蘭公民 (C)為了藉由宗教教化原住民 (D)為了提升原住民的知識水準。

《答案》C

詳解：荷治時期，學校教育主要由傳教士所主導，其教育內容以基督教教義為核心開展，故選(C)。

20. ( )若你是生活在鄭氏政權統治下的臺灣原住民，你最可能遭受下列何種境遇？ (A)與外來者相當友好，毫無衝突 (B)頭目需固定與鄭氏政權召開會議 (C)反抗鄭氏，最後成功將敵人驅逐出境 (D)政府鼓勵拓墾，並要求原住民負擔勞役。

《答案》D

詳解：(A)在鄭經主政時期仍有衝突。(B)此為與荷蘭人的互動。(C)激起多次反抗，但最後結果是原住民敗退，大肚王國勢衰。

21. ( )清帝國領有臺灣後不久，即頒布「渡臺禁令」。請問：下列有關「渡臺禁令」的敘述，何者符合史實？ (A)除配偶外，規定禁止攜帶男眷 (B)禁令執行時寬時嚴，移民偷渡情形仍然普遍 (C)渡臺證照手續相當複雜，但不難申請 (D)規定女子須申請渡臺證照，才允許到臺灣居住。

《答案》B

22. ( )「清廷平亂後，打算加強對臺灣的統治及防務，臺灣鎮總兵幕僚藍鼎元遂建議在諸羅縣北半線地方另設一縣。於是在雍正元年(西元 1723 年)，在原諸羅縣境，劃虎尾溪以北，增設彰化縣及淡水廳。」根據上文所述，此一亂事應是下列何者？ (A)郭懷一事件 (B)朱一貴事件 (C)林爽文事件 (D)施琅攻臺事件。

《答案》B

詳解：朱一貴事件促使清廷重新調整行政區劃為臺灣府統轄四縣二廳。

23. ( )清帝國時期，沈葆楨對臺灣有諸多建設，其中哪一項對臺灣東部的開發影響最大？ (A)開發北、中、南三條聯絡東部道路 (B)在東部設立炮臺，防禦外敵入侵 (C)設立恆春縣，方便管理原住民 (D)實施劃界封山，禁止漢人侵入番界開墾。

《答案》A

詳解：(B)在南部設立炮臺。(C)恆春縣在南部。(D)沈葆楨始放寬出入番界的限制。

24. ( )「一府二鹿三艋舺」代表了清帝國時期的重要三大城市外，也代表著臺灣整體的開發方向。關於這句話的解釋，下列何者正確？ (A)「二鹿」是指臺南的鹿耳門 (B)臺灣的開發方向由北到南 (C)艋舺位於現今的淡水 (D)三個城市都為通商港口城市。

《答案》D

25. ( )美笑讀到一段文字介紹：「現今的社子島被視為臺北市的邊陲地帶，但在清帝國治理後期，社子島卻是相當繁榮興盛之地。由於當地土質優良適合農作，且地理位置因臨近茶葉的外銷集散核心地□□而具有優勢。當時臺灣花茶廣受東南亞地區歡迎，為了滿足外銷需求，社子島一帶大量種植茉莉花，採收後迅速渡河送往□□進行茶葉加工，接著直接對外出口。」請問：上文中的□□最可能是指何地？ (A)艋舺 (B)雞籠 (C)淡水 (D)大稻埕。

《答案》D

詳解：由題幹「茶葉外銷集散核心地」，可知為大稻埕。

26. ( )老師在說明清代臺灣社會的文教發展時，展示了一幅〈番社采風圖〉，圖中有一群小孩

正在念書。下列哪一個同學發表的內容，較符合當時的臺灣社會？



(A)米香：「清代社會充滿械鬥和民變，不可能發展文教，所以這幅圖是虛構的。」 (B)蛋捲：「畫中是一群平埔族小孩在向漢人老師學習儒家經典。」 (C)本丸：「畫中是一群原住民小孩在向漢人老師學習新港文。」 (D)麻糊：「這幅圖顯示，教育機構隨著漢人移民來到臺灣，剛提倡就成功盛行。」

《答案》B

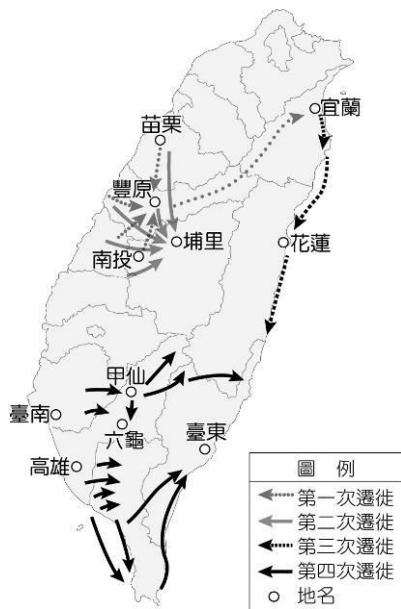
詳解：(A)清帝國中後期社會經濟發展穩定，文教事業才開始盛行。(C)新港文為荷蘭傳教士以羅馬字母拼寫出的文字。(D)清代早期漢人移民致力於農業開墾，文教並不盛行。

27. ( )西元 1872 年 3 月 9 日由淡水河口登陸，4 月 7 日隨即在日記這樣寫著：「我再一次與你立誓，就是痛苦至死，我一生也要住在此地……，願上帝幫助我。」、「西元 1884 年清法戰爭時，一般民眾都懷疑我與外國軍隊暗自串通。所以，當軍艦向陸上開炮時，民眾就拆毀教堂或傷害信徒洩憤。然而法軍猛烈轟炸淡水的結果，使醫館內外都擠滿受傷的士兵，我因盡心盡力的照顧他們，還受到清廷的褒獎。」請問：這本是何人的日記？ (A)馬偕 (B)馬雅各 (C)沈葆楨 (D)劉銘傳。

《答案》A

詳解：由文中「願上帝幫助我」判斷為傳教士，「淡水」、「醫館」等關鍵字判斷為馬偕。

28. ( )這是一張清代平埔族群遷徙圖，請問造成這種現象的原因最可能為何？



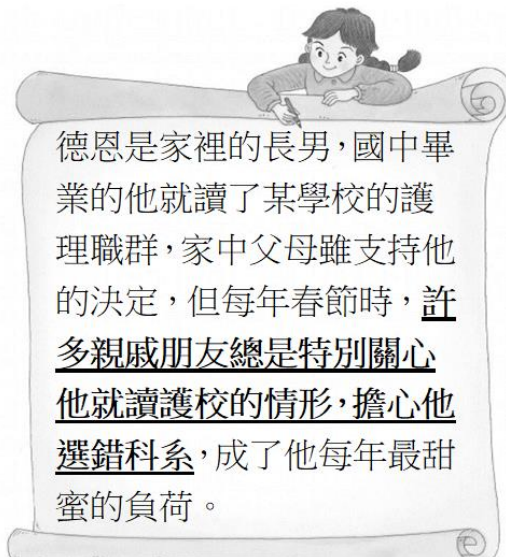
(A)漢人移民增加，壓縮平埔族的生活空間 (B)清朝政府實施遷界令，強迫平埔族東移 (C)平埔族原本就有定期遷移的習慣 (D)平埔族中內戰頻頻發生，部分族人只好遷移到東部。

《答案》A

29. ( )我國施行國民義務教育，規定所有國小畢業學生皆須進入國中就讀，以期讓國民的素質得以透過教育而提升。請問：對於該政策的敘述，下列何者不正確？ (A)國民義務教育的實施，讓學生有機會透過更多學習，來決定自己想要的生活方式 (B)部分生活條件相對不足的人，因為國家政策的介入，而有受教育的機會 (C)國家制定此政策是希望讓不同性別、財富及社經背景的人民，都能擁有受教育的權利 (D)政府強制人民受教育，是侵害了個人自我決定的權利。

《答案》D

30. ( )請閱讀下列文章後回答問題：



請問：上文中畫線部分反映了德恩面臨下列哪一事實？ (A)親戚朋友認為德恩的生理性別產生偏差 (B)親戚朋友在選校議題上產生性別刻板印象 (C)親戚朋友歧視德恩在學校方面的選擇 (D)德恩在校系方面的選擇符合親戚朋友的期待。

《答案》B

詳解：德恩的親戚朋友過度僵化的認為護校不適合男性就讀，故屬於性別刻板印象。(C)畫線部分並未明確看出性別歧視(差別待遇)。



31. ( ) 性別刻板印象造成了性別不平等，下列相關敘述何者正確？ (A) 應該以「性別」來判定一個人的成就 (B) 應回歸「個人」的本質 (C) 受害者都是女性，男性則完全不受影響 (D) 不同性別各有專屬的工作項目，應該在自己的崗位上好好努力。

《答案》B

詳解：(C) 兩性都受影響。(D) 工作項目並未專屬於任何性別。

32. ( ) 下列四名國中生的對話，誰對「姑丈」此稱謂的親屬關係了解最正確？ (A) 小東 (B) 小西 (C) 小南 (D) 小北。

小東：姑丈和姑姑是一家人，和我是旁系血親。

小西：表弟和我是姻親，姑丈和我是直系血親。

小南：姑丈是血親的配偶，和我是姻親的關係。

小北：姑丈和我並沒有血緣關係，所以不是親屬。

《答案》C

33. ( ) 康軒國中 1 年 16 班上完公民課後，同學間彼此分享自己的家庭及其優點——



鈞皓

每到連續假日我都很興奮，因為爸爸在臺北上班，只有假日才能從北部回來跟我們團聚。



東曄

雖然我家只有我和爸爸，但我覺得很溫馨、很快樂。



子玢

我爸媽在外地工作，我和祖父祖母住一起，很開心！



稚翎

我有好多家人，每天都能和 5、6 個堂、表兄弟姐妹一起玩耍，一起寫功課！

- 依據上述，下列何者正確？ (A) 鈞皓家是屬於頂客家庭 (B) 東曄家是屬於繼親家庭 (C) 子玢

家是屬於隔代教養家庭 (D)稚翎家是屬於折衷家庭。

《答案》C

詳解：(A)兩地家庭；(B)單親家庭；(D)大家庭。

34. ( ) 以下是艾倫在電視上看到的一則新聞報導——

我國受虐兒案件逐年增加，6歲以下受虐兒占了77%，因學齡前的受虐兒少了學校、幼稚園的通報，所以凸顯鄰居、社區關懷系統更重要。

根據內容判斷，兒童虐待案件比例的升高，顯示家庭未能充分發揮哪一項功能？ (A)生育 (B)教育 (C)經濟 (D)保護與照顧。

《答案》D

詳解：受虐兒案件增加，顯示兒童在家庭中未受到妥善的保護與照顧。

35. ( ) 校園霸凌可依特性分為不同的種類，下列何者屬於「反擊霸凌」？ (A)胖虎在臉書上留言羞辱大雄 (B)小夫不敢反抗霸道的胖虎，就欺負大雄來發洩怒氣 (C)丸尾不甘心總是考輸花輪，散播謠言說花輪作弊 (D)豬太郎受不了長期被同學嘲笑，憤而拿刀割傷自己。

《答案》B

詳解：反擊霸凌是霸凌受害者遭受欺壓後的反擊行為，有些是報復加害者，也有些轉而霸凌更弱勢的對象。

36. ( ) 班會是班級學生自治活動中重要的決策會議，關於開班會時的各種角色及其任務，下列敘述何者正確？

選項	角色	任務
(A)	主席	原則上不參與討論和表決
(B)	司儀	負責宣布會議名稱和議程
(C)	紀錄	計算與宣布提案的表決結果
(D)	導師	於表決票數相同時裁決結果(加入投票)

《答案》A

詳解：(B)應由主席宣布、(C)應由主席宣布表決結果、(D)應為主席的功能，導師僅負責適時指導或講評。

37. ( ) 打造綠能環保的社區是德國弗班社區居民的共同目標，他們的房子高度不超過樹，以保有綠色視野；以共享車取代私家車，來增加社區可用空間。下列何者應為該社區居民願意這麼做的主因？ (A)對社區有強烈的認同感 (B)為了積極參與公共事務 (C)他們正面臨共同的社區問題 (D)出自於高度的利己精神。

《答案》A

38. ( )紀錄片「聽霧鹿在歌唱」是敘述臺東霧鹿國小全校師生學習八部合音的故事，「八部合音」是布農族的傳統文化，該校六年級學生說：「聽見這歌聲，就好像聽見數百年前族人的聲音。現在我教學弟學妹唱，等當了母親、阿媽，再教孩子、孫子唱。」請問上述內容強調何者的重要性？ (A)原住民族文化的起源 (B)原住民族部落共工、共享 (C)原住民族語言文化傳承 (D)原住民族政治組織。

《答案》C

39. ( )花蓮縣銅門部落太魯閣族人因慕谷慕魚遊憩區過度觀光消費山林，造成塞車、空氣、噪音及垃圾汙染，部落多次協調要求暫停核發入山證讓山林修養生息一年，但皆未獲得有效回應，便以燒狼煙、鳴獵槍昭告祖靈、宣示捍衛傳統領域。不料此舉反遭旅遊業者向警方提出恐嚇、妨害自由及槍砲等告訴。有關上述報導，下列何者敘述正確？

(A)

此觀光景點為社會所共有，該部落不應將之占為私有地。

(B)

抗議行動是為了表達捍衛家園山林、拒絕觀光霸凌的訴求，政府應把土地還給部落自主管理，才能永續發展。

(C)

此為原住民族與旅遊業者的私人恩怨，公部門不應介入協調。

(D)

鳴獵槍是昭告祖靈之意，但的確讓人心生畏懼，應全面禁止。

《答案》B

40. ( )下圖是兒福聯盟所進行的調查報告——

我國近7成的兒少有接觸校園霸凌的經驗，這些接觸霸凌的兒少中，64.7%為旁觀者，曾被霸凌者占17.1%，霸凌他人者占9.2%，曾被霸凌進而霸凌人者占9%。

關於「校園霸凌」的敘述，下列敘述何者正確？ (A)在接觸過霸凌的兒少中，有9%的人是屬於反擊霸凌 (B)容易被霸凌者通常是因為其人格特質所造成 (C)某些霸凌行為只是同學間的玩笑，大人不需要緊張 (D)為了怕也被同學排擠，最好假裝不知道。

《答案》 A