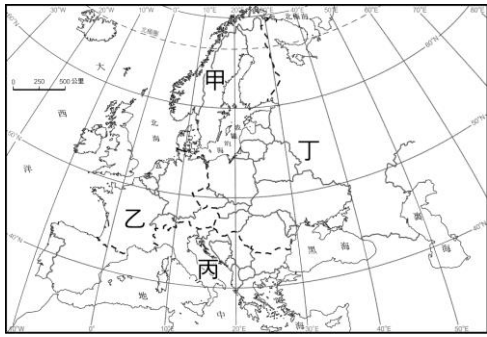


第五冊社會補行評量題庫

一、單選題：

- () 1. 附圖中的哪個地區具有夏天乾燥，冬季多雨的氣候特色？



(A)甲 (B)乙 (C)丙 (D)丁

答案：(C)

- () 2. 上課時同學們一起討論關於溫帶大陸性氣候的內容，其中誰的說法最正確？

(A)若天：「溫帶大陸性氣候位於溫帶海洋性氣候的西側。」 (B)若薇：「降水量集中於冬季。」 (C)若依：「年溫差較大，位於背風側。」 (D)若愚：「距海愈遠，降水量愈多。」

答案：(C)

- () 3. 溫帶地中海型氣候區的冬季為主要的降雨季節，這是受到哪項氣候條件的影響？

(A)副熱帶高壓籠罩 (B)山脈阻擋 (C)西風吹拂 (D)暖流經過

答案：(C)

解析：溫帶地中海型氣候特徵為夏乾冬雨。因行星風系的風帶隨季節移動，冬季受西風帶的影響，西風帶來海洋水氣，形成降水。

- () 4. 若依溫帶大陸性氣候、溫帶海洋性氣候、溫帶地中海型氣候的順序，排出位於該氣候區內的城市，則下列何者正確？

(A)莫斯科、基輔、明斯克 (B)布加勒斯特、華沙、鹿特丹 (C)莫斯科、巴黎、雅典 (D)羅馬、哥本哈根、布拉格

答案：(C)

解析：莫斯科為溫帶大陸性氣候、巴黎為溫帶海洋性氣候、雅典為溫帶地中海型氣候。

- () 5. 「有人說西風是上帝對歐洲人的恩賜，能帶給歐洲豐沛的雨量；但對中國人來說，伴隨西風而來的卻常是漫天黃沙。」造成上述差異的原因為何？【98基測(二)】

(A)歐洲位於大陸的西岸；中國位於大陸的東岸 (B)歐洲的西風來自陸地；中國西風來自海洋 (C)歐洲西風集中於冬季；中國西風集中於夏季 (D)歐洲的緯度位置較高；中國的緯度位置較低

答案：(A)

解析：歐洲位於歐亞大陸西岸，終年盛行西風，從大西洋帶來充沛水氣；中國位於歐亞大陸東岸，西風從內陸沙漠帶來黃沙。

- () 6. 「溫暖的氣候對葡萄生長很有助益，可是氣溫太熱或太冷就會妨礙到葡萄生長。空氣中的溼度不能太低，可是連綿的陰雨卻又是葡萄生長的大忌，所以全世界的葡萄種植只能分布於南、北緯 30~50 度之間……。」由上文判斷，葡萄最適合生長的地區應該屬於哪種氣候？【中市崇德】

(A)寒帶氣候 (B)溫帶大陸性氣候 (C)溫帶海洋性氣候 (D)溫帶地中海型氣候

答案：(D)

解析：溫帶地中海型氣候主要作物為葡萄、橄欖、柑橘。

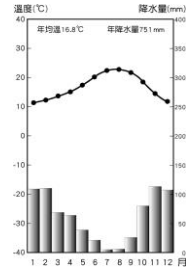
- () 7. 冰島南部的艾雅法拉火山於 2010 年 3 月 20 日和 4 月 14 日的兩次爆發，並釋放出大量的火山灰，對全球航空以及氣候等方面造成了一定影響。由於巨大的火山灰雲，迫使英國和愛爾蘭關閉領空，也造成全歐洲數百萬名航空旅客進退兩難。造成火山灰雲影響歐洲各國的最主要因素？【新北中正】

(A)西風帶 (B)暖流 (C)季風 (D)緯度

答案：(A)

解析：歐洲位處於緯度 40~60 度的地區，終年受西風吹拂。

- () 8. 附圖為歐洲某地氣候類型分布圖，此地最可能為何處？



(A)雅典 (B)倫敦 (C)華沙 (D)莫斯科

答案：(A)

解析：此圖為溫帶地中海型氣候

- () 9. 該礦泉水源自歐洲的○○山，由千年冰雪融聚而成，清純甘冽，潔淨自然，為了保持水質純淨，水源地周圍五十公里內，嚴禁任何人為活動。這座山最有可能是哪一座山脈？

(A)喜馬拉雅山 (B)阿爾卑斯山 (C)落磯山 (D)安地斯山

答案：(B)

解析：歐洲的阿爾卑斯山有冰河分布。

- () 10. 歐洲的阿爾卑斯山和臺灣的玉山地勢皆高聳，但阿爾卑斯山冰河地形發達，是冬季理想的滑雪場，玉山卻沒有滑雪場。造成這種差異的主要原因為何？

(A)緯度高低 (B)山脈走向 (C)距海遠近 (D)風力強弱

答案：(A)

- () 11. 追隨釋迦摩尼的信眾當中，應該以下列哪個階級的人數最少？

(A)婆羅門 (B)刹地利 (C)吠舍 (D)首陀羅

答案：(A)

解析：佛教打破階級觀念挑戰，對位居於階級最上層的婆羅門不利。

- () 12. 小欣在參觀一場介紹世界古文明的展覽時，在某個古文明的主題展區中看見附圖介紹文字。根據附圖文字判斷，小欣應會在這個主題展區中看見下列哪個選項的說明？

這個國家為了生產需要，在天文、曆法、數學上有很高的造詣，也因此有著獨特的太陽神崇拜。這點從該國的國王以太陽神之子的身分統治這個國家可以清楚看出。

(A)此展區的古文明始終信奉一神信仰 (B)右列中的國家位於地中海西岸區域 (C)太陽神主宰人們的死後審判及重生 (D)此古文明的文字為西方字母的起源

答案：(D)

解析：根據此文明「在天文、曆法、數學的造詣」、「太陽神崇拜」、「國王是太陽神之子」等，可知此古文明為古埃及，

埃及的象形文字為西方字母的起源，故答案為(D)。(A)多神信仰；(B)地中海東南岸；(C)死後審判由陰間之神主宰。

() 1 3. 附圖為某套文字系統，而若追溯其起源，最早與下列哪個地區的文字系統有關？



(A)埃及 (B)羅馬 (C)希臘 (D)阿拉伯

答案：(A)

() 1 4. 埃及的解剖學發展與埃及的哪個代表性文化息息相關？

(A)木乃伊 (B)金字塔 (C)尼羅河週期氾濫 (D)象形文字

答案：(A)

() 1 5. 德健翻閱一本古代典籍時看到以下內容：「這是希臘人的歷史中最大的一場騷動，同時也影響到大部分非希臘人的世界，可以說，影響到幾乎整個人類。」文中說的整個人類，以當時的人們對世界的認識，應該不包括哪一洲？

(A)歐 (B)亞 (C)非 (D)美

答案：(D)

解析：希臘人接觸到的世界涵蓋地中海周圍的歐、亞、非三洲。

() 1 6. 阿彌陀經：「一時，佛在舍衛國祇樹給孤獨園，與大比丘眾千二百五十人俱。」上文中的佛應該是指誰？

(A)耶穌基督 (B)穆罕默德 (C)釋迦摩尼 (D)君士坦丁

答案：(C)

() 1 7. 在西亞創立的伊斯蘭教，創立之初信徒多為阿拉伯人，其主要發展的行業為下列何者？

(A)農業 (B)手工業 (C)商業 (D)工業

答案：(C)

() 1 8. 當人們對於任何事物做出選擇時，會依據何種準則選出最適合自己的選項，來滿足自己的最大欲望？

(A)生產成本最高 (B)外幣匯率最低 (C)機會成本最低 (D)機會成本最高

答案：(C)

() 1 9. 政府要求或禁止人民從事某種行為，而設有各種行政規定，此為「行政管制」。若是要減少人民不法行為，行政管制通常會以何種方式執行？

(A)提供負面誘因 (B)增進人民感情 (C)主張公平正義 (D)強化道德標準

答案：(A)

() 2 0. 文藝復興的哪個特性，改變了自羅馬帝國滅亡後中世紀的價值觀念？

(A)圖畫優美 (B)雕刻壯觀 (C)以人為本 (D)方言文學

答案：(C)

解析：人的地位被提升。

() 2 1. 「第二天他們一早起身，總管押運著行李先走，大家隨後由小心謹慎的國王率領著，回到佛羅倫斯去。到了聖瑪麗亞-諾凡拉禮拜堂，三位年青的少爺告辭了七位小姐，原來他們出發時就是在這兒集合的。於是男的到別處去遨遊消遣，女的各自回家。[第十天終]」這段文字摘錄自一本極具代表性的文學作品，該書應是以哪裡的方言進行

寫作？

(A)英國 (B)義大利 (C)西班牙 (D)德國

答案：(B)

解析：十日談用義大利方言。

() 2 2. 英王亨利八世之所以與教會決裂，導火線是因為什麼問題？

(A)婚姻 (B)教會介入英國內政 (C)稅金分配 (D)英王介入教宗選舉

答案：(A)

() 2 3. 「出於渴慕真道、明辨事理的願望；文學碩士、神學碩士和維登堡大學常任講師馬丁路德神父擬主持對下列各條進行的公開辯論，並希望不能參加口頭辯論者提出書面意見。」以上這段文字應該出自下列哪篇文章？

(A)《十日談》 (B)《九十五條論綱》 (C)《聖經》 (D)《百科全書》

答案：(B)

解析：從文中的馬丁路德可以判讀。

() 2 4. 伊比利半島上的諸國率先開始尋找新航路，帶領歐洲進入大航海時代。伊比利半島上的西班牙葡萄牙在航海上有何優勢條件，讓他們在航海上領先歐洲其他國家？

(A)為文藝復興的起源地 (B)吸收阿拉伯科技 (C)中國思想傳入 (D)地處溫帶氣候

答案：(B)

() 2 5. 荷蘭失去東亞轉運中繼站是誰的緣故？

(A)施琅 (B)鄭成功 (C)沈有容 (D)李旦

答案：(B)

解析：鄭成功趕走荷蘭人。

() 2 6. 俗話說：「穀賤傷農」，意思是指供給與需求不平衡都會造成農民傷害，而何項概念最有效率的使市場上的供給和需求趨於平衡？

(A)政府 (B)市場價格 (C)生產者 (D)消費者

答案：(B)

() 2 7. 南宋時，人民使用政府發行的「會子」作為交易的媒介，人們可以用來買賣商品。由上述「政府發行」推斷，南宋的「會子」屬於何種貨幣？

(A)信用貨幣 (B)電子貨幣 (C)商品貨幣 (D)法定貨幣

答案：(D)

() 2 8. 世賢是一個遊手好閒的月光族，積欠銀行高達數十萬元的卡債。世賢積欠卡債最有可能須負起何種責任？

(A)民事責任 (B)刑事責任 (C)行政責任 (D)政治責任

答案：(A)

() 2 9. 政府運用科技加強資訊的公開透明，維護人民知的權利，促進人民對於公共事務的了解，試問現代青少年最可能透過何種方法參與公共事務？

(A)聽演唱會 (B)飛鴿傳書 (C)廣告抽獎 (D)網路媒體

答案：(D)

() 3 0. 由於科技的進步與發展，政府運用科技讓人民參與公共事務，行政院國家發展委員會設置何種平臺，讓國中生也可以表達自己的意見？

(A)紓困振興專線 (B)消費者保護專線 (C)公共政策網路參與平臺 (D)1999 市民專線

答案：(C)

() 3 1. 日向將歐洲在 16 世紀後對某地的種種殖民措施整理成表格，以此表判讀，此地為下列何者？

帶去傳染病
引進大量的奴隸
傳入小麥
將玉米、南瓜帶回歐洲

(A)亞洲 (B)非洲 (C)美洲 (D)澳洲

答案：(C)

() 3 2. 小光在《漫畫日本史》中看到某頁內容(如附圖)，附圖中的 X 國應為下列何者？

那些該死的南蠻一直在我的國家傳播奇怪的宗教！以後不准他們再來做生意了，只有 X 國人比較聽話，准許他們繼續來貿易。



(A)英國 (B)葡萄牙 (C)西班牙 (D)荷蘭

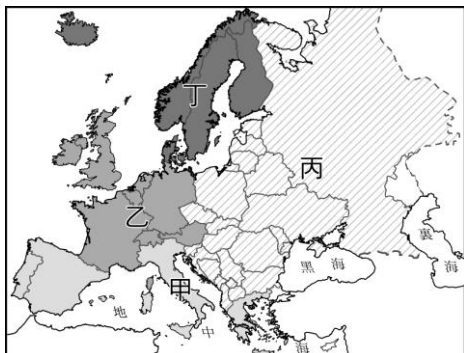
答案：(D)

() 3 3. 歐洲與俄羅斯同在歐亞大陸上，關於這兩個地區的共同點，下列何者正確？

(A)皆屬於廣義的基督教世界 (B)皆屬於季風氣候區 (C)皆受佛教文化薰陶 (D)皆屬於同一個時區範圍

答案：(A)

() 3 4. 在歐洲的產業發展過程中，「此區」是歐洲最早進入工業化，工商業活動發達，都市化程度最高的地方。根據上文內容判斷，「此區」應為附圖中何處？



(A)甲 (B)乙 (C)丙 (D)丁

答案：(B)

() 3 5. 南非不僅是南部非洲電力聯盟的成員國，還是非洲主要電力出口國。若南非要在開普敦建設風力發電機，發電機風扇主要應面向哪個方向？

(A)東方 (B)西方 (C)北方 (D)南方

答案：(B)

() 3 6. 漠南非洲因為醫療資源不足、缺乏衛生知識，目前哪種疾病罹病率已是各洲之冠？

(A)禽流感 (B)流行性感冒 (C)愛滋病 (D)SARS

答案：(C)

() 3 7. 附圖為歐洲地中海區域圖，請問在夏季時甲跟乙的氣壓分別為何？



(A)西風帶、東南信風帶 (B)副熱帶高壓帶、西風

帶 (C)東南信風帶、副熱帶高壓帶 (D)西風帶、副熱帶高壓帶

答案：(D)

() 3 8. 附圖中的斜線區域為歐洲每人平均 GDP 超過 40,000 美元的國家分布圖，由圖發現歐洲存在著區域展不均的現象。歐洲經濟發展程度較差的地區多位於下列哪些分區？



(A)西歐、南歐 (B)北歐、西歐 (C)東歐、西歐 (D)東歐、南歐

答案：(D)

解析：北歐、西歐是全球最現代化地區，經濟發展程度佳；東歐、南歐相對經濟發展程度較差。

() 3 9. 中南美洲有些國家的首都位於山區，如秘魯的利馬、玻利維亞的拉巴斯，即使該國沿海地區有低平地形可供都市發展，但卻選擇交通較不便的山上，有違都市聚落的原則。上述現象的原因，與下列何者最相關？

(A)山區礦產多有開發的潛力 (B)山區氣候涼爽適合人居 (C)山區的國民所得收入較高 (D)山區的醫療、教育資源較充裕

答案：(B)

解析：文中高地的都市大多因位居低緯地區，所以在山區建立都市有溫度涼爽的優勢，故選(B)。

() 4 0. 小南和朋友一起上網想要透過網路商城挑選衣物，她們看到每件商品的都有各項標價。小南說：「紫色短裙要 2,000 元、黑色洋裝一件要 3,000 元、牛仔帽要 1,500 元，牛仔褲要 2,500 元。」由上述可知「元」代表貨幣的何種功能？

(A)價值儲存 (B)債務清償 (C)交易媒介 (D)衡量價值

答案：D