

一、單題

1.( ) 達叔騎著拉風的哈雷機車展開旅遊行程，若他由附圖中的甲處出發，一路南下經由乙處，再到達丙處，他所經之處主要的海岸地形種類依序應為何？

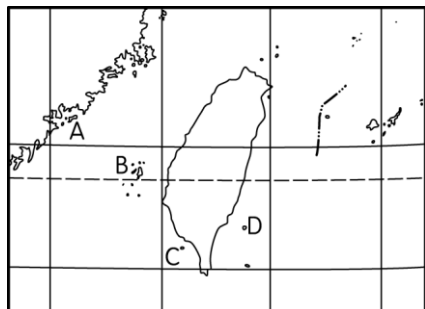


(A) 岬灣海岸、斷層海岸、珊瑚礁海岸 (B) 岬灣海岸、斷層海岸、沙岸 (C) 珊瑚礁海岸、沙岸、斷層海岸 (D) 珊瑚礁海岸、斷層海岸、岬灣海岸。

答案：(A)

解析：甲處為東北角的岬灣海岸、乙為斷層海岸、丙為熱帶海洋的珊瑚礁海岸。

2.( ) 如果小名的爸爸要帶他去看一座由海底珊瑚礁露出海面所形成的島嶼，則他們要到附圖中哪一島嶼較為適合？

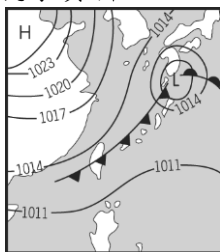


(A) A (B) B (C) C (D) D。

答案：(C)

解析：C 為琉球嶼，屬於珊瑚礁島。

3.( ) 附圖為季風亞洲地區的地面天氣圖，由圖中無法得知下列哪一項氣象資料？

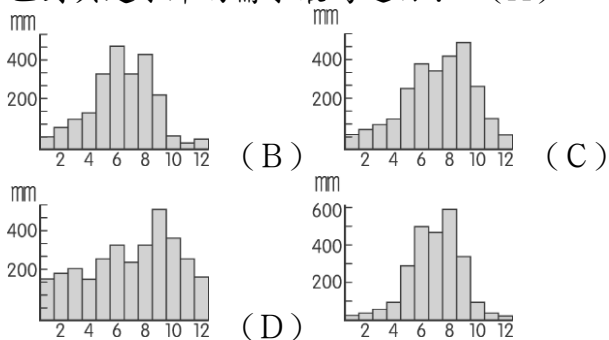


(A) 高低氣壓 (B) 鋒面特性 (C) 平均溫度 (D) 盛行風向。

答案：(C)

解析：圖中僅直接呈現出氣壓高低及鋒面特性，因此無法得出長時間的平均溫度。

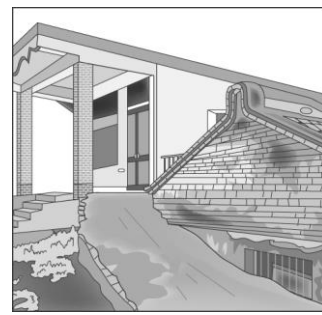
4.( ) 臺灣降水雖豐，但時空分配不均，須建水庫以調節水源。下列為臺灣各區降水量分布圖，請問：哪一區對興建水庫的需求最為迫切？ (A)



答案：(D)

解析：對興建水庫有迫切需求的地區是冬夏雨量差異大的地區，故選(D)。

5.( ) 附圖是屏東縣佳冬鄉某處民宅景觀，當地部分民宅有下沉的情況出現，該現象的形成與當地何種產業活動密切相關？



(A) 晒鹽業 (B) 茶葉 (C) 養殖漁業 (D) 畜牧業。

答案：(C)

解析：因淡水養殖漁業超量抽取地下水，導致當地發生地層下陷的情況。

6.( ) 歷史老師請同學以長濱文化為題，進行分組討論。以下是該組四位同學的意見，何者的看法較為正確？

甲生：「長濱文化是臺灣新石器時代的文化類型。」

乙生：「長濱文化位於臺灣的西部，屬於南島語族文化的一部分。」

丙生：「自長濱文化出土後，迄今臺灣的石器文化遺址都是海邊的洞穴出土。」

丁生：「從長濱文化遺存可知，他們以採集、漁獵為主要的維生方式。」

(A) 甲生 (B) 乙生 (C) 丙生 (D) 丁生。

答案：(D)

7.( ) 附表為 17 世紀臺灣新港社語言中的外來字彙表。請問：17 世紀新港社語言，主要為當時哪一原住民族的語文？

編號	新港語	中文翻譯
1	Agoualilif	鑰匙
2	Deus	上帝
3	Kakato	剪刀
4	Lalto	毛瑟槍
5	Sackig	鐘

(A) 西拉雅族 (B) 噶瑪蘭族 (C) 太魯閣族 (D) 凱達格蘭族。

答案：(A)

解析：荷蘭人為了方便傳教用羅馬字母拼寫西拉雅族語，因為新港社留下最多這種文獻，故又稱為「新港文書」。

8.( ) 搭乘臺北捷運時，小呂聞著剛買的鹽酥雞香味，忍不住伸手要拿來吃，小美告誡他，捷運有車廂內不得飲食的相關規範，即便沒其他人會發現，也請忍到下車後離開範圍再吃。請問：上述小美的態度，符合現代公民應具備的何項基本德性？ (A) 和平尊重包容 (B) 遵守法律規範 (C) 理性批判思考 (D) 捍衛公平正義。

答案：(B)

解析：小美遵守《大眾捷運法》的規定。

9.( ) 緬蘋看到一篇短文如下，根據內容判斷，作者寫此篇文章的用意最可能為下列何者？

給我親愛的族人  
 許多年輕人搬離部落到都市工作，追尋他們想要的生活方式，這是令人開心的事，但我們不能忘了祖先留下的珍貴禮物，如：美麗的族語與歌謠、對大自然的胸懷和對族人的關懷，我們應該把這一切延續下去。

(A) 發展部落環境的觀光資源 (B) 促進原住民族文化的傳承 (C) 保障原住民族的宗教自由 (D) 維護部落領袖的控制權力。

答案：(B)

解析：短文內容希望年輕族人能夠珍惜原住民族的傳統文化，並傳承下去。

10.( ) 幾位漢人網友針對以下新聞內容發表留言，其中哪

一位的論述最為適當？

新聞摘要

原住民族因傳統狩獵文化與動物保育觀念相衝突，預備向政府採取抗爭行動，再度引發社會爭議。

- (A)小儒：因少數原住民族利益而發動抗爭，將造成民眾不安，破壞社會和諧氣氛
- (B)小鴻：傳統狩獵文化不符合現代風俗，應盡早廢除，以免影響社會進步
- (C)小翊：狩獵文化與生態保育均須受到重視，應相互理解，找出解決之道
- (D)小翔：現代社會注重公民參與，應投票決定，遵守少數服從多數的民主原則。

答案：(C)

解析：狩獵是原住民族的傳統文化，如與當代的法律與價值觀發生衝突時，應透過溝通協調，找出最適當的處理方式。

- 11.( ) 前往美國紐約 (75°W) 遊學及觀光的小翰，於中午時間打電話回臺灣。請問：當時臺灣的親人最可能正在做什麼事？ (A)上學 (B)午睡 (C)上班 (D)吃宵夜。

答案：(D)

解析：兩地相差 13 小時。

- 12.( ) 地貌的形成受到各種作用力的影響而各有特色，附圖中有關喜馬拉雅山形成的敘述中，何者最為正確？



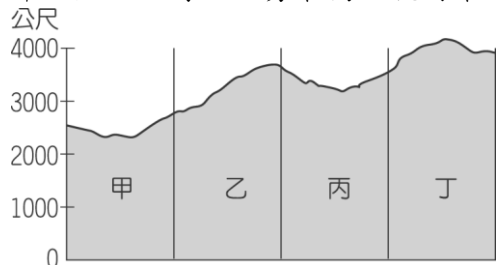
- (A)外營力為主 (B)堆積作用旺盛 (C)河川侵蝕盛行 (D)板塊擠壓隆起。

答案：(D)

- 13.( ) 在分層設色圖中，是利用不同的顏色層次來代表何種地形要素？ (A)距離 (B)高度 (C)地質 (D)作用力。

答案：(B)

- 14.( ) 臺灣某登山隊的登山路線如附圖所示，請問：來到圖中哪一段山脈時，地勢最高，視野最遼闊？



- (A)甲 (B)乙 (C)丙 (D)丁。

答案：(D)

- 15.( ) 臺灣周圍離島大多面積小且人口較少，下列對於部分離島所隸屬之縣市，何者敘述正確？ (A)綠島—花蓮縣 (B)澎湖群島—嘉義縣 (C)龜山島—新北市 (D)蘭嶼—臺東縣。

答案：(D)

- 16.( ) 2011 年 3 月，日本福島的核電事故造成輻射能外洩，氣象局預計當地因盛行西風，汙染物質會被吹至太平洋東岸。但若受到東北風影響，則可能吹向臺灣。請問：此時臺灣相關監測單位在下列哪一個地方，將可能最快測到相關的輻射濃度提高？ (A)臺南 (B)臺中 (C)宜蘭 (D)苗栗。

答案：(C)

解析：風由東北方向臺灣吹來，因此位於東北方的宜蘭縣將首當其衝。

- 17.( ) 下列哪一個臺灣地名和當地的氣候特徵相關，可一窺當地的氣候特色？ (A)鹿港 (B)臺北 (C)花蓮 (D)恆春。

答案：(D)

解析：恆春因「四季如春」而得名。

- 18.( ) 降水的形成因素有很多種。請問：下列哪一種說法是正確的？ (A)我們常說的「西北雨」是屬於地形雨 (B)「午後雷陣雨」是屬於地形雨 (C)「納莉颱風」是屬於鋒面雨 (D)「梅雨」是屬於鋒面雨的一種。

答案：(D)

解析：(A)「西北雨」是屬於對流雨(B)「午後雷陣雨」是屬於對流雨(C)「納莉颱風」為熱帶性低氣壓。

- 19.( ) 在鄭氏政權的經營下，臺灣成為各貿易地的轉運站。請問：上述貿易地不包括下列何地？ (A)中國 (B)朝鮮 (C)日本 (D)菲律賓。

答案：(B)

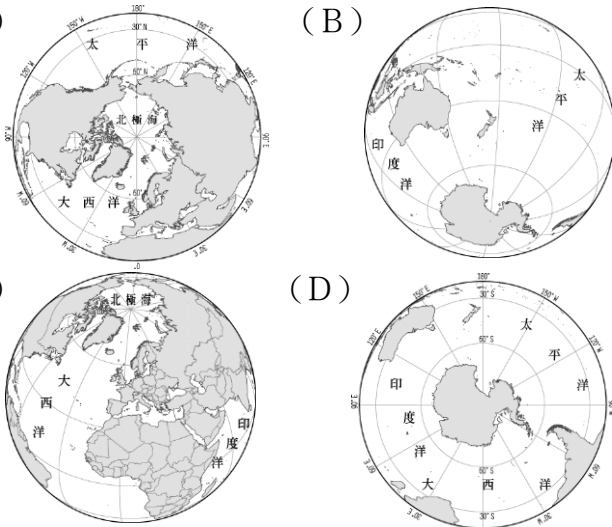
解析：鄭氏政權時期，致力擴張東亞的轉口貿易，一方面與中國大陸進行走私貿易；一方面積極與英國、日本通商，以取得反清事業所需的軍用物資。

- 20.( ) 清帝國早期，臺灣出現由商人組成的行會組織，有關此種組織的敘述何者錯誤？ (A)行會組織具有重要的政治功能 (B)此種行會組織稱為「郊」 (C)行會組織的功能可以穩定商品價格 (D)行會組織可以避免同業削價惡性競爭。

答案：(A)

解析：(A)「郊」為商業性組織，無政治功能。

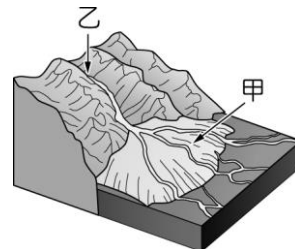
- 21.( ) 冰原的融化將會對地球氣候造成嚴重的影響，因此美國太空總署特別拍攝衛星影像圖，來觀察南極大陸冰原面積變化情況。若想要完整且清楚的看到其冰原變化，應該選擇下列哪一範圍的圖？ (A) (B) (C) (D)



答案：(D)

解析：(D)為南半球圖，是以南極洲為中心的地圖。

- 22.( ) 臺灣的風景秀麗，被譽為「福爾摩沙」，受到不同的地形作用影響，因此各地的景觀多樣化，成為地理環境特色。附圖中的甲、乙兩地，其成因應該為何？



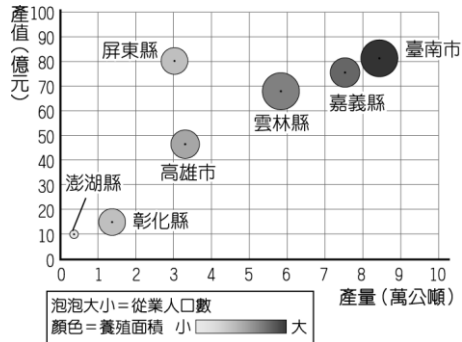
	(A)	(B)	(C)	(D)
甲	侵蝕作用	侵蝕作用	堆積作用	堆積作用
乙	侵蝕作用	堆積作用	侵蝕作用	堆積作用

答案：(C)

解析：圖中甲地為河川沖積而成的平原，乙地則是山區侵蝕作用形成的河谷。

- 23.( ) 附圖為臺灣養殖漁業重鎮的相關資料。根據圖中地

區判斷，當地有利發展的條件為下列何者？

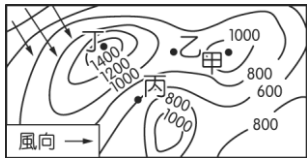


- (A) 水淺多瀉湖海灘 (B) 水深魚群資源多 (C) 淺水礁岩少汙染 (D) 海岸平直易開闢。

答案：(A)

解析：圖中主要分布縣市皆位於臺灣西南部，屬沙岸。

24. ( ) 降水量的多寡受到地形的影響，形成迎風坡及背風坡的差異。附圖中哪一個地區可能受到地形影響，降水量明顯較少？

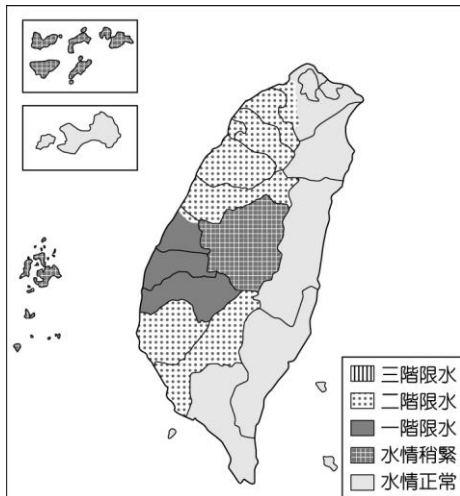


- (A) 甲 (B) 乙 (C) 丙 (D) 丁。

答案：(C)

解析：丙區正好位於西北風的背風坡，因此降水量較少。

25. ( ) 經濟部水利署成立抗旱專區網站，提供民眾最新水情與抗旱情報，網站可看到附圖中的臺灣供水情勢（枯旱預警）通報示意圖，由圖可推知，這最可能是下列哪一時間的供水情勢？

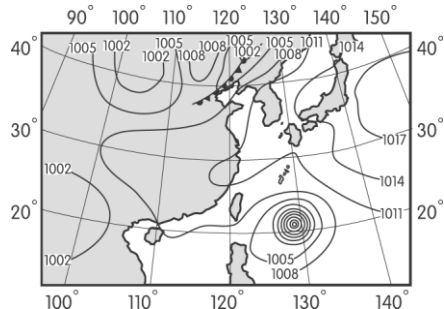


- (A) 三月初 (B) 六月底 (C) 七月中 (D) 十月初。

答案：(A)

解析：受到降水分布不均影響，臺灣西南部在冬末春初的乾季末期常有缺水問題，故選(A)。

26. ( ) 當臺灣的地面天氣圖呈現如附圖的現象，則下列有關該圖的解說，何者正確？




- (A) 大陸冷氣團南下 (B) 氣候炎熱乾燥少雨 (C) 將有強風豪雨來襲 (D) 持續數月陰雨綿綿。

答案：(C)

解析：由海上的氣壓可判斷將受到颱風影響。

27. ( ) 娜眉週末時和父母出去玩，發現某個博物館的館徽圖案如附圖。請問：娜眉最可能去下列哪一縣市遊玩？



- (A) 新北市 (B) 臺東縣 (C) 臺南市 (D) 宜蘭縣。

答案：(B)

解析：人獸形玉質耳飾為卑南文化的出土文物，卑南文化遺址位於臺東縣。

28. ( ) 下列內容摘錄自熱蘭遮城日誌，記述了有關在福爾摩沙舉行的第一次地方會議情況，文中畫底線處最有可能是指下列何者？

時間：1641年4月11日  
地點：熱蘭遮城  
今天長官閣下在隨從多人陪伴下，搭上公司的小艇，與多人浩浩蕩蕩航往赤崁，和福爾摩沙居民舉行地方會議，並向其宣布，他已被總督及東印度議會任命為福爾摩沙的長官兼船長。長官閣下抵達時，受到各社長老隆重的歡迎並接受禮物。

- (A) 漢人 (B) 荷蘭人 (C) 平埔族群 (D) 日本人。

答案：(C)

解析：熱蘭遮城位於今日臺南，當時是平埔族群西拉雅族的分布地。

29. ( ) 政論節目是許多臺灣民眾熱中的節目型態之一，但部分節目政治立場鮮明，每當意見相左的來賓一發言，往往遭其他人群起圍攻，甚至阻斷發言。請問：上述情形說明參與者欠缺現代公民應具備的何項基本德性？ (A) 和平尊重包容 (B) 遵守法律規範 (C) 理性思考批判 (D) 捍衛公平正義。

答案：(A)

解析：民主社會中人人都能表達自己的意見，即使雙方立場不同、看法各異，也應相互理解、尊重，給予對方表達的機會。

30. ( ) 老師在開班會前，讓每位同學先將班會流程敘述一次，下列何人的說法正確？ (A)

(A) 由司儀宣布會議名稱和開會目的。

(B) 主席主持會議，並記錄與會人員的發言。

(C) 表決的順序：是先提議（名），後表決。

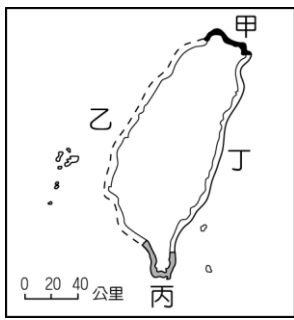
(D)

主席主持表決，但以不參加表決為原則。

答案：(D)

解析：(A) 主席 (B) 記錄與會人員的發言是紀錄的職責 (C) 先提議（名），先表決。

31. ( ) 臺灣四面環海，因此可利用的海洋資源相當豐富。若基隆的漁船欲前往附圖中的甲海域進行捕魚活動，若不考量其它限制因素，則漁船活動的海域及界限為下列何者？



- (A)東海 12 哩 (B)巴士海峽 200 哩 (C)太平洋 200 哩  
(D)東海 200 哩。

答案：(D)

解析：臺灣北部為東海，而經濟海域的範圍為 200 哩。

- 32.( ) 臺北市林口台地新落成的房屋相當多，由於地勢居高臨下，視野遼闊，因此房價持續看漲。請問：上述地形區的主要成因為何？ (A)河川含沙量多，沖積扇堆積凸起形成台地 (B)火山岩漿侵入，造成地殼隆起的平坦地面 (C)海岸侵蝕力強，沿岸平原向內侵蝕而後退 (D)板塊活動作用，地表受到擠壓而向上抬升。

答案：(D)

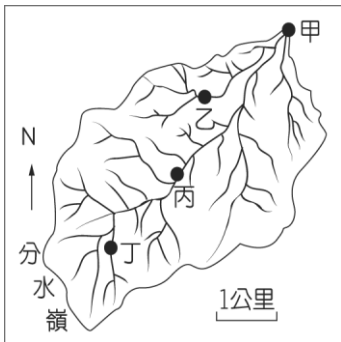
解析：台地為地表受到板塊擠壓使地層抬升而形成。

- 33.( ) 地形的成因包含內營力及外營力的作用，王教授欲研究內營力造成的地形景觀，應前往下列哪一個島嶼較適合？ (A)金門 (B)澎湖 (C)東沙島 (D)琉球嶼。

答案：(B)

解析：內營力主要為火山活動和板塊運動，因此前往屬火山島的澎湖較適合。

- 34.( ) 附圖是流域示意圖，圖中地勢最低的是何者？



- (A)甲 (B)乙 (C)丙 (D)丁。

答案：(A)

- 35.( ) 淡水位於淡水河的出海口，大溪則位在淡水河支流之一的大漢溪旁，在淡水河水系未有人為開發之前提下，附表關於這兩地的河道特色比較，何者正確？

	(A)海	(B)水	(C)侵	(D)河
	拔高度	量	蝕作用	水流速
淡水	高	多	強	快
大溪	低	少	弱	慢

答案：(B)

解析：由題目中敘述可得知淡水位於淡水河下游出海口，而大溪位於支流大漢溪，因此兩地相比，上游地區的大溪海拔高度高，水量較少，侵蝕強，流速快，下游地區的淡水則相反。

- 36.( ) 16 世紀後期，中國東南沿海地區的走私貿易和海上劫掠活動為何由澎湖轉移至臺灣本島？ (A)清代實施海禁政策 (B)明朝政府駐軍澎湖 (C)澎湖四周不利航海 (D)臺灣本島發現金礦。

答案：(B)

解析：16 世紀，明朝派兵進駐澎湖，使原本以澎湖為據點的海商，逐漸轉移到臺灣活動。

- 37.( ) 清帝國統治期間臺灣發生過三次大規模的民變，下列何者是康熙年間爆發的重大民變事件？ (A)郭懷一事件 (B)朱一貴事件 (C)戴潮春事件 (D)

( )林爽文事件。

答案：(B)

解析：(A)荷治時期；(C)同治年間；(D)乾隆年間。

- 38.( ) 宜蘭古稱「蛤仔難」，清代吳沙曾率眾拓墾。請問：清帝國時期，宜蘭直到何時始成立行政區？ (A)康熙年間 (B)雍正年間 (C)嘉慶年間 (D)光緒年間。

答案：(C)

- 39.( ) 據報載，某公家單位職員對廠商實施教育訓練時，利用自己的職權，在上課時以言語對女性員工性騷擾。請問：上述該職員的行為，已觸犯下列何法？ (A)《性騷擾防治法》 (B)《性別平等教育法》 (C)《性別工作平等法》 (D)《公民投票法》。

答案：(C)

解析：發生在職場的性騷擾依《性別工作平等法》處理。

- 40.( ) 小新家中有爸爸、媽媽與妹妹，可知在小新家裡包含哪些親屬關係？(甲)血親(乙)配偶(丙)姻親(丁)宗親 (A)甲乙 (B)丙丁 (C)甲丙 (D)乙丁

答案：(A)