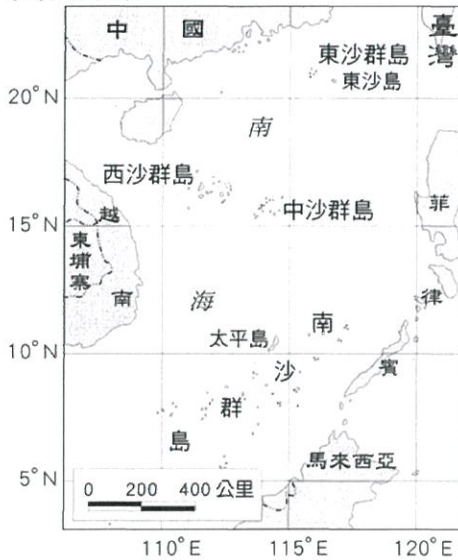


壹、選擇-：(每題 0 分。共 0.0 分)：

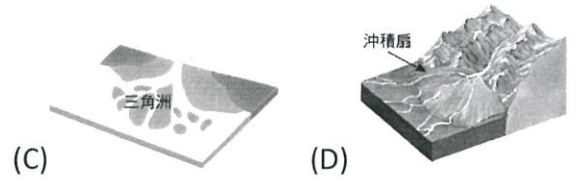
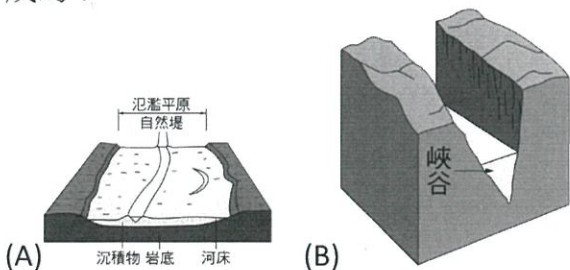
1. (D) 臺灣的離島眾多，除澎湖、金門及馬祖外，其餘都隸屬臺灣本島的行政區下管轄，且管轄權多屬鄰近該島嶼的行政區，附圖為東沙島、太平島與臺灣的相對位置圖。請問：其最可能隸屬哪一個行政區管轄？ (A) 臺北市 (B) 新北市 (C) 臺中市 (D) 高雄市。



2. (A) 以下為臺灣某離島的經緯度資料，根據經緯度位置研判，這座離島最可能是下列哪一座？ (A) 澎湖群島 (B) 琉球嶼 (C) 龜山島 (D) 綠島。

緯度	23.2°N~23.78°N
經度	119.31°E~119.71°E

3. (B) 下列哪一種地形不是堆積作用所形成的？

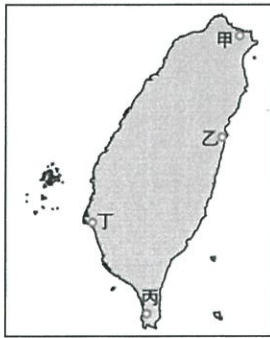


4. (C) 臺灣山地包括：(甲) 中央山脈 (乙) 阿里山山脈 (丙) 雪山山脈 (丁) 海岸山脈等。其中，何者的緯度最高？ (A) 甲 (B) 乙 (C) 丙 (D) 丁。
5. (B) 考試將近，同學們熱烈討論有關地形的上課重點。請問：誰的發言不正確，可能需要再調整觀念？



6. (B) 小華在國三畢業前作了一次環島之旅，他從臺北出發沿著海岸公路順時針繞行臺灣，沿途看到了各種不同的海岸類型，包括：(甲) 灣澳相間的岩岸 (乙) 豐富的珊瑚礁岩岸 (丙) 筆直的斷層海岸 (丁) 平直的沙岸。請問：小華先後看到的海岸次序為何？ (A) 甲乙丙丁 (B) 甲丙乙丁 (C) 甲丙丁乙 (D) 甲丁乙丙。
7. (B) 中山國中九年級的畢業旅行是環島之旅，旅程第二天他們來到某個景點，同學們在此處見證了地理課本曾提及的景

象—「這裡高山與深海相臨，沿岸平原狹窄，海水極深，港口較少」。請問：這天同學們是到了附圖中的哪一個地方？ (A)甲 (B)乙 (C)丙 (D)丁。

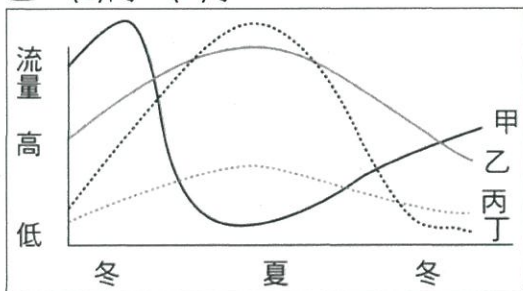


8. (B) 地理老師帶同學們認識臺灣的氣候一課時，提出一個問題：「氣壓是指空氣重量造成的壓力，我們通常以哪一種單位表示？」下列哪一個同學的說法正確？ (A)悅專：「應該是攝氏。」 (B)幼瑄：「不對！是百帕。」 (C)靜宜：「好像是華氏吧！」 (D)美菱：「我覺得是毫米耶！」

9. (D) 當颱風逼近臺灣，颱風帶來的西南風越過山脈，風從山頂吹往平地時，瞬間溫度飆高造成「焚風」，常在山脈後方造成災情與經濟損失。請問：附圖中哪一處最有可能是「焚風」出現的地區？ (A)甲 (B)乙 (C)丙 (D)丁。



10. (B) 附圖中是四條不同的河流在一年之中流量變化圖，哪一條曲線最接近臺灣北部淡水河的水位變化情況？ (A)甲 (B)乙 (C)丙 (D)丁。



11. (A) 影響臺灣河川流向與長度的因素為何？ (A)地形、降水量 (B)緯度、季風 (C)季風、位置 (D)降水量、氣溫。

12. (D) 小琪參觀臺灣某史前文化遺址的文物，發現此文化在生活方面除了漁獵，也有農業，而且貿易範圍很廣，遠及中國大陸及東南亞，使用的器物除了有石器、陶器，還有金、銀、銅、鐵等金屬器。請問：小琪所參觀的最可能是哪一文化遺址？ (A)長濱文化 (B)大坌坑文化 (C)圓山文化 (D)十三行文化。

13. (C) 臺灣最早出現的人類活動，可以追溯到五萬年前。在那一段沒有文字記載的時代，人們經歷石器時代與金屬器時代。學者依據何者劃分石器時代與金屬器時代？ (A)時間的長短 (B)空間的分布 (C)使用工具的材質 (D)生活方式的改變。

14. (A) 十六世紀之後，歐洲人紛紛來到亞洲建立貿易據點。請問：當時西班牙以何處作為與中國貿易的根據地？ (A)馬尼拉 (B)澳門 (C)新加坡 (D)巴達維亞。

15. (A) 中國周邊地區的國家名或地名，許多是以中國為中心所形成的名稱，有明示或暗示兩者的相對位置，像是朝鮮就是以「朝陽之光所照，光鮮之地」、日本就是以「太陽升起之地」，兩者都是指位於中國太陽升起方向(東方)的國家之意思；而在中國南方的越南是指「建於南方的越人之國」。臺灣在歷史上也有許多的名稱，下列哪一個名稱也是以中國為中心的稱呼？ (A)福爾摩沙：「美麗的島嶼。」 (B)東番：「東邊的番人之地。」 (C)高山國：「許多山地的國家。」 (D)大員：「『大灣』轉音而來。」

16. (A) 原住民因為缺乏文字資料，因此我們除了其本身的口述傳說和神話之外，還能透過外來者的紀錄等資料，來了解早期原住民的生活。雖然各地原住民的生活方式不盡相同，但早期多半透過何種方式維

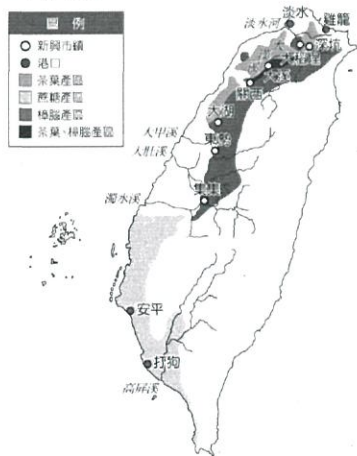
生？ (A)漁獵與游耕 (B)精耕與採集 (C)商業與貿易 (D)精耕與狩獵。

17. (B)歷史課堂中，老師問：「大航海時代，除了原本就住在臺灣的原住民之外，還有哪些人曾來到臺灣並占領臺灣部分領土？」以下同學們的回答，何者有錯？ (A)小雅：漢人 (B)大仁：日本人 (C)婷婷：荷蘭人 (D)阿根：西班牙人。

18. (D)清嘉慶 11 年(西元 1806 年)，福州將軍賽沖阿來臺平定海盜蔡牽，他擔憂「該地」若無設官治理，將遭到海盜侵占，於是向皇帝報告「該處膏腴為蔡逆(即蔡牽)窺伺。」嘉慶 14 年，閩浙總督方維甸奏請將「該地」納入版圖，至嘉慶 17 年正式核定設廳。請問：以上敘述應是臺灣哪個行政區劃設立的過程？ (A)淡水廳 (B)澎湖廳 (C)卑南廳 (D)噶瑪蘭廳。

19. (A)小夫是十九世紀下半葉在打狗港從事出口的貿易商，他應該經營哪一種商品的買賣，才能財源廣進？ (A)蔗糖 (B)茶葉 (C)樟腦 (D)鴉片。

20. (A)附圖是臺灣某一時期產業分布與新興市鎮圖。此種現象的形成與下列何事最為相關？



(A)英法聯軍後，清廷開港通商 (B)客家移民大量移入山區 (C)沈葆楨解除劃界封山的禁令 (D)清法戰爭後，劉銘傳加強開發北部山區。

21. (D)「大觀書社」建於同治 12 年(西元 1873 年)，位於新北市板橋區林家花園旁，現為國家三級古蹟。當年板橋林家捐資興建書社，教育漳泉子弟習文，就是為了要

促進雙方族群融合，以化解「漳泉械鬥」後的仇視心理。此外，「大觀書社」也是廟宇，同祀供奉文昌帝君和孔子，帶動了當地的文教風氣。請問：根據以上短文，下列敘述何者正確？ (A)「大觀書社」興建於鄭氏統治臺灣初期 (B)「大觀書社」的設立是為了緩和漢人和平埔族間的關係 (C)早期臺灣移民致力於農業拓墾，文教風氣也很盛行 (D)早期來臺的漢人們常為生存競爭，產生摩擦對立。

22. (C)孫老師發問：「清帝國時期的臺灣社會經常發生械鬥，原因有哪些？」以下哪一位同學的說法是錯誤的？ (A)家寶：「因語言不同而出現隔閡。」 (B)怡君：「移民為爭奪水源與田地而發生爭執。」 (C)文雄：「為爭奪作官的機會而大打出手。」 (D)雅玲：「爭奪商業利益而發生械鬥。」

23. (D)柯培元在擔任噶瑪蘭廳通判時寫下一首《熟番歌》，其中一段提到：「人畏生番猛如虎，人欺熟番賤如土。強者畏之賤者欺，無乃人心太不古。熟番歸化勤躬耕，荒埔將墾唐(漢)人爭。」上述這段話的內容與下列敘述何者較為接近？ (A)漢人與熟番接觸後，大多習得熟番的農耕技術 (B)熟番不樂見漢化後的狀況，因此與漢人爭奪土地 (C)漢人偶爾會聯合生番來攻擊熟番 (D)熟番在漢人的文化優勢下屈於下風。


24. (B)高中職免試入學放榜，一名桃園市某公立國中的學生，以優異成績選讀職校，他表示自己的會考成績可上公立高中，但因對電腦、科技有興趣，且對數理較擅長，才會選擇就讀北科附工電子科，未來打算往科大邁進。根據上述內容，下列描述何者最相關？ (A)該名學生的志願選填受到性別的影響很大 (B)尊重該名學生自主選擇是對其人性尊嚴的維護 (C)該名學生的志願選填應該依照父母的意見 (D)該名學生高分選讀高職，代表對自我的認識不足。

25. (C)考慮高齡長輩的就醫交通不便及偏鄉地區的醫療資源缺乏，政府落實全人照

- 護並與長照服務無縫接軌，每週安排巡迴醫療、專科診療服務等，透過照護團隊合作，依患者病況提供到宅醫療服務，讓行動不便患者，在家中也能得到「居家醫療」、「重度居家醫療」、「安寧療護」三階段的醫療照護。政府此舉發揮下列何種精神？
- (A)縮小城鄉差距達到特殊人權的維護
(B)政府透過法律的制定禁止侵害人權
(C)人人都有權利享有尊嚴與公平的生活
(D)享受充分自我發展才能實踐人性尊嚴。
26. (D) 「男人婆」、「娘娘腔」等不雅的稱號，經常在國中、高中階段出現，這代表這個階段的學生，常會有怎樣的錯誤觀念？
- (A)肯定每個生命獨特的氣質 (B)考慮到他人的感受 (C)尊重個別的差異性 (D)帶有貶抑的性別偏見。
27. (D) 媽媽認為女孩子就應該下廚做菜，打理家人三餐，但是男孩子就應該遠離廚房，也不需要做家事。上述媽媽的想法，帶有下列何種概念？
- (A)性別平等 (B)分工合作 (C)性別歧視 (D)性別刻板印象。
28. (D) 志妙和棟旭結婚當天，婚禮十分隆重盛大，雙方父母對這雙璧人寄予滿滿祝福。根據《民法》所規範的親屬關係，志妙的父母與棟旭的父母屬於何種親屬關係？
- (A)姻親 (B)自然血親 (C)法定血親 (D)沒有關係。
29. (D) 漢武帝任用衛青討伐匈奴獲得豐碩的成果。此外，漢武帝的姐姐嫁給衛青，衛青的姐姐嫁給漢武帝。這對君臣兩個家庭之間，還有下列哪種關係？
- (A)衛青跟漢武帝彼此是連襟 (B)衛青的姐姐跟漢武帝的姐姐彼此是妯娌 (C)衛青的姐姐跟漢武帝的姐姐彼此沒有親屬關係 (D)衛青跟漢武帝彼此是血親的配偶。
30. (D) 家庭暴力事件已非為私領域事務，政府公權力會介入處理，落實家庭暴力的防治。依據《家庭暴力防治法》規定，家庭暴力是指「家庭成員間實施身體、精神或經濟上之騷擾、控制、脅迫或其他不法侵害之行為」，下列有關《家庭暴力防治法》的敘述何者正確？
- (A)被害人可直接向警察機關聲請保護令 (B)該法所指的家庭成員須具備《民法》上的親屬關係 (C)被害人只能撥打 113 保護專線，其他專線不受理 (D)被害人親屬亦可代替被害人向家暴防治中心通報。
31. (B) 依據聯合國世界衛生組織的定義，所謂「高齡化社會」意指老年人口占總人口數的比例在多少以上？
- (A)5% (B)7% (C)10% (D)14%。
32. (A) 新聞報導：「行政院研議採用補貼與減稅並行的政策，為國人『催生』。因此，財政部正在研擬可行的減稅方案。」依此判斷，上述措施最有可能改善下列哪一項問題？
- (A)出生率下降 (B)離婚率上升 (C)老年人口增加 (D)家庭暴力頻傳。
33. (C) 開班會的時候，學生踴躍提出自己的意見，下列哪一位學生的發言內容符合開會的程序？
- (A)會議開始，我們先進行臨時動議 (B)導師講評後，我們才可以開始進行表決 (C)我提出秩序問題，現在應該先進行提案討論 (D)我提出秩序問題，會議進行中請大家不要聊天。
34. (D) 教育部公告「學校不得以服儀問題懲罰學生，鼓勵採取口頭規勸方式。」有關國中小校園服儀規定的產生，下列何者最符合學生直接參與公共事務的方式？
- (A)由學校徵求各班導師意見，統一制定辦法 (B)依照家長的期待來調整辦法 (C)由導師統合學生意見後，召開全體教師會議討論，凝聚共識 (D)班級代表統合各班意見後，由學生自治組織和學校共同協調。
35. (C) 雲林縣古坑鄉近年來栽種出香醇濃郁的咖啡豆品種，使得不少在地民間團體，希望透過舉辦活動，結合咖啡及在地文化推廣，使古坑人更愛自己的土地，甚至以古坑為傲。他們應從下列哪方面著手？
- (A)學生自治 (B)學校教育 (C)社區意識 (D)社區治安。
36. (C) 以往經常有將「部落」認定為「社區」的說法，但原住民族並不認同這樣的

看法，關於部落的特殊性，下列敘述何者為非？ (A)部落是原住民族的傳統信仰中心 (B)部落是原住民族的基本政治組織 (C)部落無須經中央主管機關核定 (D)部落凝聚原住民族的情感。

37. (B) 登山客要攀登臺灣百岳時，多會在手機上安裝「臺灣大地羅盤」的 APP，藉此獲得各種座標定位的資訊。請問：下列哪一張圖片所呈現的地理位置和「臺灣大地羅盤」APP，所表達的概念最為貼近？



38. (D) 附圖是一則關於臺灣股票博物館的新聞。

臺灣股票 44 座臺北 101 高

臺灣股票博物館成立於民國 100 年，當年 7 月 29 日，臺灣證券市場正式達到「無實體百分百」目標，集保結算所特別在原來保管股票的庫房現址，建置臺灣第一座股票博物館。

臺灣股票博物館館長表示：股票已全面無實體化，臺灣股票博物館展出過去發行的紙張實體股票，連接起來有 44 座臺北 101 大樓那麼高。臺灣股票博物館展出臺灣發行的第 1 張股票，為……興建鐵路之際，向民眾募資發行的股票。

由報導內容可判斷，臺灣發行第 1 張股票是何時的事？ (A)荷蘭人治理臺灣時期 (B)鄭氏經營臺灣時期 (C)臺灣開港通商

時外國商人所發行 (D)劉銘傳擔任臺灣巡撫時期。

39. (C) 「二十世紀初，清廷與某國簽訂『中越交界禁止革命黨章程』，要求該國官員協助查辦在中越邊境活動的革命分子，若有人在越南境內傳播對清廷不利的言論，則依照該國的律例加以懲治。」上文中的「某國」最可能是下列何者？ (A)日本 (B)英國 (C)法國 (D)美國。【106 教育會考】

40. (C) 甲乙丙為相鄰的三個島嶼，乙島嶼位於甲島嶼東方 5 公里，丙島嶼位於乙島嶼南方 5 公里。請問：丙島嶼位於甲島嶼的何方？ (A)東北方 (B)西南方 (C)東南方 (D)西北方。