

一、單題

1. ( ) 合理使用他人的智慧成果並不會侵犯其智慧財產權，下列何者即屬之？

- (A) 我把別人的文章標上自己名字拿去參賽，竟然獲得首獎，真是太棒了！
- (B) 我從朋友的 CD 中拷貝 EXO 的歌曲來聽。
- (C) 我把整本小說拿去影印，用來學習寫作技巧。
- (D) 我從圖書館借閱多篇電子期刊來研讀。

答案：(D)

解析：(A)(B)(C) 侵犯別人的著作財產權。

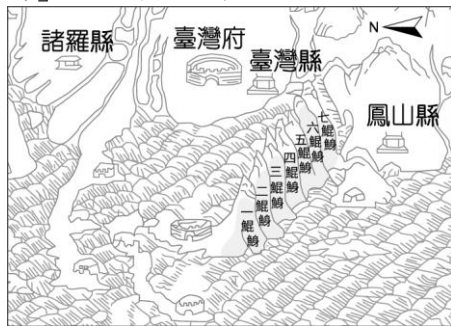
2. ( ) 1683 年，清帝國康熙皇帝派遣施琅進軍今日的安平一帶，攻滅南明勢力的東寧王國，並將其正式納入版圖，於是這個島嶼便歸屬於福建省，設立了府治，有了正式的行政區命名。此時的名稱為下列何者？

- (A) 大員 (B) 大灣 (C) 東番 (D) 臺灣。

答案：(D)

解析：(D) 臺灣的正式名稱開始於清帝國時期設立行政區。

3. ( ) 附圖為臺灣古地圖，從古地圖探索早期發展與多變面貌。圖中的「鯤鯓」是指何種海岸地形？



- (A) 岬角 (B) 沙洲 (C) 沙灘 (D) 瀉湖。

答案：(B)

解析：(B) 沙洲形狀像魚浮出海面露出背部，因此又稱「鯤鯓」。

4. ( ) 附圖是 19 世紀某一生物學家所提出的主張，卻被人類學拿去應用，成為列強侵略他國的正當理由（社會達爾文主義）。請問：上述主義的影響不包括下列何者？



- (A) 認為白種人較為優越
- (B) 拉丁美洲經濟深受美國影響
- (C) 亞洲成為世界貿易中心
- (D) 非洲被列強瓜分強行劃定國界。

答案：(C)

解析：在社會達爾文主義的影響下，歐洲認為白人較為優越，拉丁美洲也成為美國控制區，非洲則淪為列強瓜分對象。

5. ( ) 池上米好吃的祕密就在於源自中央山脈的潔淨水質，以及擁有肥沃沖積土壤共同孕育出池上米得天獨厚的風味。上述的「池上米」分布於哪個平原？

- (A) 嘉南平原 (B) 屏東平原
- (C) 宜蘭平原 (D) 花東縱谷平原。

答案：(D)

解析：(D) 池上位於臺東縣。

6. ( ) 臺灣地形多元複雜，為地方提供豐富的命名素材。依據地名判斷，下列哪個聚落的所在位置取水較不方便？

- (A) 內灣 (B) 牛埔 (C) 崎頂 (D) 潭漈。

答案：(C)

解析：(C) 山坡的頂端稱為「崎頂」，住在崎頂不怕淹水，不過取水較不方便。

7. ( ) 鵝鑾據推測來自哪一族語言，為船帆之意？

- (A) 排灣族 (B) 達悟族 (C) 布農族 (D) 阿美族。

答案：(A)

解析：(A) 鵝鑾據推測來自排灣族語言，為船帆之意。

8. ( ) 日治時期建造花東鐵路，沿線車站遇當地地名作為站名時，多會將地名轉譯為日本人易於發音的站名，臺東知名的多良車站，如附圖，此地舊稱「打腊打蘭社」

(Dalandalan)，後來被日本人改稱為「多多良」(Tatara)，最後省略為現今的「多良」。下列哪一地名同樣與日本的關聯密切？



- (A) 桃園 (B) 花蓮 (C) 松山 (D) 澎湖。

答案：(C)

解析：(C) 多良的地名由來是以日文發音近似舊地名轉譯而成，臺北的松山，是日本人因其景色和日本松山相近而更名。

9. ( ) 關於美國獨立和法國大革命，兩者共同點的敘述，下列何者正確？

- (A) 皆因財政問題引起
- (B) 都頒布三權分立憲法
- (C) 都是為了擺脫殖民統治
- (D) 事件結束後都成為民主國家。

答案：(A)

解析：(B)(C)(D) 美國獨立。

10. ( ) 臺灣有很多種古稱呼，何時臺灣成為官方行政區的命名，臺灣一詞固定下來？

- (A) 鄭氏 (B) 清帝國 (C) 日治 (D) 中華民國在臺灣。

答案：(B)

解析：(B) 清帝國之後，臺灣成為官方行政區的命名，臺灣一詞固定下來。

11. ( ) 19 世紀時，帝國主義紛紛崛起，當時的帝國主義國家有下列哪一個特色？

- (A) 以工業革命為後盾 (B) 以航海探險為目標
- (C) 以宣揚宗教為手段 (D) 以民族自決為號召。

答案：(A)

解析：工業革命後，歐美列強需要原料和廣大市場，積極拓展殖民地。

12. ( ) 臺灣地形多元複雜，提供地方豐富的命名素材。附圖為臺灣與地形有關的地名分布圖，依圖中的分布位置判斷，這些地形類的地名，應為下列何者？



(A) 崎 (B) 湳 (C) 崙 (D) 墘。

答案：(C)

解析：(C) 臺灣中南部平原大量出現「崙」的地名。

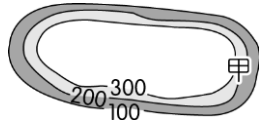
13. ( ) 臺灣出現許多與在地環境無關的地名，例如：南投縣的「仁愛鄉、信義鄉」，這些名稱出現在臺灣的可能原因為何？

(A) 以彰顯道德教化 (B) 寄託復國的決心  
(C) 冀求能長治久安 (D) 人民能落地生根。

答案：(A)

解析：(A) 「仁愛」謂寬仁慈愛，「信義」謂信用和道德，皆有彰顯道德教化之意。

14. ( ) 地名可反映一地的地形特徵，附圖中的甲地是偉凡家鄉的等高線地形圖。根據圖中資料判斷，偉凡家鄉可能為下列何者？



(A) 雲林縣崙背鄉 (B) 臺南市新營區  
(C) 屏東縣崁頂鄉 (D) 臺北市松山區。

答案：(C)

解析：(C) 等高線分布愈密集，坡度愈陡峭，如圖中的甲位於陡峭崖坡上方，故稱崁頂。

15. ( ) 公民課討論主題為「全球化的影響」，下列哪位同學的回答正確？

(A) 全球化不是一個新的概念。

(B) 全球化的影響在生活周遭不常見。

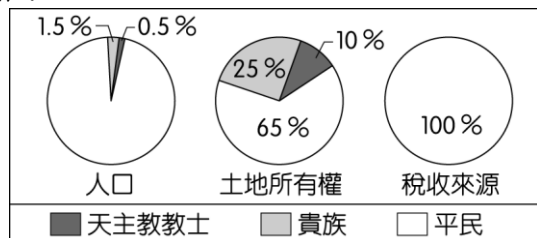
(C) 全球化的範圍僅限於經濟層面的發展。

(D) 全球化將使各國統一成為一個國家。

答案：(A)

解析：古時人們就曾因為貿易通商等目的而有跨國往來。


16. ( ) 附圖呈現某事件前夕，當地的社會情況。此事件最可能是下列何者？



(A) 美國獨立 (B) 法國大革命  
(C) 日本大化革新 (D) 中國武昌起事。

答案：(B)

17. ( ) 附圖為英國肥皂廣告，廣告詞提倡白種人有教導其他種族清潔的責任。請問：當時的時代氛圍不包括下列何者？



(A) 認為白種人較為優越  
(B) 英國為世界強權之一  
(C) 其他種族是白種人的負擔  
(D) 日本也是世界列強一分子。

答案：(D)

18. ( ) 19世紀前期，奧國的首相說：「各國國王應當思量他們在未來還有多少機會可以安坐王位，除非各國團結合作，維護政治體制，否則歐洲社會將會崩解。」此後奧國首相採取什麼行動？

(A) 召開維也納會議  
(B) 參與獨立戰爭  
(C) 擁護拿破崙  
(D) 宣揚自由、平等、博愛的精神。

答案：(A)

19. ( ) 附圖是1890年俾斯麥辭去首相時，英國雜誌上刊載的政治漫畫，說明「德意志皇帝坐視俾斯麥辭職，如同船主任由船隻的領航員離去。」俾斯麥因為完成下列哪些成就，而被形容為船隻的領航員？甲、將日耳曼地區的小國合併為三十多邦；乙、成立關稅同盟，奠定統一的經濟基礎；丙、帶領普魯士先後擊敗奧地利與法國；丁、建立德意志帝國，並使其成為歐洲強國



(A) 甲乙 (B) 甲丁 (C) 乙丙 (D) 丙丁。

答案：(D)

20. ( ) 這群人假扮成印第安人，將貨品丟入海灣中，藉此表達殖民地人民對母國政府的不滿，也為獨立戰爭拉開序幕。當時殖民地人民的主張為下列何者？

(A) 和平、土地、麵包  
(B) 自由、平等、博愛  
(C) 在國會沒有代表，拒絕繳稅  
(D) 三權分立、主權在民。

答案：(C)

解析：波士頓茶葉事件起因為殖民地人民認為他們在英國國會沒有代表，英國政府無權任意徵稅，因此拒絕納稅，為美國獨立運動拉開序幕。

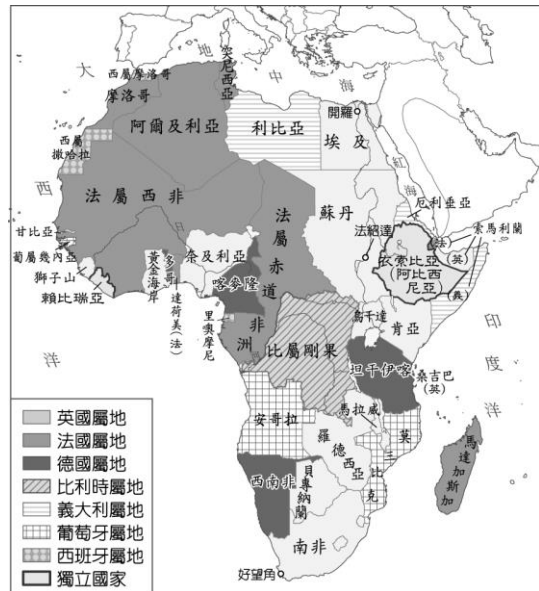
21. ( ) 附表是四個歐洲國家在第一次世界大戰爆發後的反應，根據表中內容判斷，何者屬於「同盟國」陣營？

國家	事件後的反應
甲	得到德國全力支持，向塞爾維亞宣戰。
乙	全面動員軍隊，對付奧匈帝國等國。
丙	為支持同一民族，同時向法國和俄國宣戰。
丁	因德軍入侵比利時，向德國宣戰。

(A) 甲丙 (B) 丙丁 (C) 甲乙 (D) 乙丁。

答案：(A)

22. ( ) 附圖是非洲在某時期，被列強瓜分的情形，最有可能發生在下列何時？



(A) 1670 年 (B) 1770 年 (C) 1810 年 (D) 1900 年。

答案：(D)

**解析：**19 世紀末，非洲地區除衣索比亞、賴比瑞亞外，其餘均為歐洲國家的殖民地。

23. ( ) 同學會中許久不見的朋友互相分享近況，如附圖。如果要為對話內容下一個標題，下列何者最適合？



- (A) 全球化幫助解決人力不足問題  
(B) 人才在全球快速流動  
(C) 每個人受全球化的影響有差異  
(D) 全球化造成失業率上升。

答案：(C)

24. ( ) 在警政署的統計數據中，網購詐騙比例高。詐騙集團在網站張貼不實資訊、盜用商品頁面供買家下單，或者隨機寄送劣質、未購買的商品給買家，導致買家受騙。下列敘述，何者最能呼應上文？

- (A) 民眾可能轉發錯誤的網路資訊，讓不實訊息流傳  
(B) 網購詐騙問題可能導致消費者隱私權遭受到侵害  
(C) 網路詐騙使消費者對網購的信賴度產生負面影響  
(D) 五花八門的廣告，使得網路購物的比率大幅下降。

答案：(C)

25. ( ) 隨著電腦與網路結合後，資訊科技廣泛運用在各種領域中，智慧型手機的普及，更讓全球民眾打破時間與空間的限制。住在基隆的小浚，若想在 12 月 1 日時，準時收看英國當地時間下午 1 點的英格蘭足球超級聯賽，他應該在幾點時收看？

- (A) 上午 8 點 (B) 下午 8 點  
(C) 下午 9 點 (D) 上午 9 點。

答案：(C)

26. ( ) 小花看到某篇報導，請推斷小花看的資料可能跟什麼主題有關？

臺灣的盜版風氣始於 1960 年代，解嚴後，娛樂產業的盜版情形幾乎到不可收拾的地步，以電子軟體、雜誌、漫畫等為大宗。當時政府在著作權益的法令上一直沒有重視，直到 1990 年初期美國將我國列為觀察中地區，立法院才在 1992 年通過著作權法。經過多年發展，正視著作權的年代終於來臨。

- (A) 智慧財產權的取得方式 (B) 我國智慧財產權的發展  
(C) 盜版對臺灣經濟的影響 (D) 人民如何抵制盜版產業。

答案：(B)

27. ( ) 附圖中的對話可用來說明資訊科技發達造成下列何種隱憂？



- (A) 資訊氾濫造成內容真偽難辨  
(B) 資訊公開可能侵犯個人隱私  
(C) 網路犯罪危及民眾私人財產  
(D) 網路使用者成為散播假訊息的傳遞者。

答案：(C)

28. ( ) 附圖為浩誠在圖書館看到某本書的部分內容。從內容推知，該書最適合做為以下哪個主題的討論素材？

我們生活中追求 CP 值高的便宜商品，其實伴隨著看不見的成本。  
跨國企業為降低生產成本，將物品外包到世界某個不為人知的窮鄉僻壤去製造，剝削當地的勞工，以追求商品的低價，這就是 CP 值的真實來源。  
CP 值：為性能與價格的比值，CP 值高，代表該商品效能好又便宜。

- (A) 全球商品多樣性 (B) 跨國投資的風險  
(C) 勞動權益的保障 (D) 跨國界經濟犯罪。

答案：(C)

29. ( ) 課堂上，同學們針對全球化的議題進行討論，下列哪位同學的發言正確？

- (A) 榆鈞：以多種面向快速流動，每種面向相互重疊、交互影響  
(B) 志翔：因為科技及交通運輸等因素的改善，才興起的新概念  
(C) 元廷：可透過有形的跨國企業擴張，但不能傳導無形的文化  
(D) 詒真：有助於經濟發展，縮短各國貧富差距，促進勞工權益。

答案：(A)

30. ( ) 以下為一名同學寫的週記，根據內容判斷，畫底線處何者顯示「文化全球化」的現象？

**生活記事**  
今天校慶，(甲)學校川堂布置成聯合國大會會場，介紹各個會員國，二樓會議室是(乙)臺灣原住民族傳統文化的展覽和族語教學，參觀完之後，我到操場的園遊會逛逛，(丙) 201 班賣古早味的愛玉冰，可以現場試做。最後來到(丁) 208 班的攤位是以「日本浴衣體驗」做為賣點，也分享許多日本習俗的小知識。

(A) 甲 (B) 乙 (C) 丙 (D) 丁。

答案：(D)

**解析**：日本文化向世界各地傳播，是「文化全球化」的現象。