

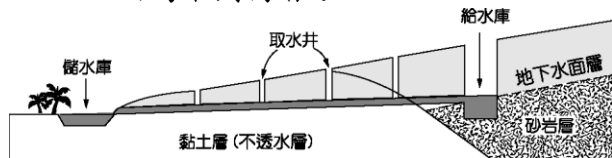
一、單題 (每題 2.5 分, 共 100 分)

1. () 中國大陸籌畫在雲南縱谷區湄公河上游興建多座水庫, 這些水庫興建完成後, 將影響到下游的用水和生態環境。請問: 下列哪一半島會受到影響? [91.第一次基測] (A)中南半島 (B)印度半島 (C)朝鮮半島 (D)阿拉伯半島。

答案: (A)

解析: 湄公河上游為中國的瀾滄江, 經緬甸、寮國、泰國、柬埔寨至越南, 下游沖積成三角洲, 注入南海。

2. () 西亞的產業活動受到自然環境的影響相當大, 形成各種不同的生活方式。請問: 西亞傳統的灌溉工程如附圖所示, 當地興建該水利工程最主要的原因為下列何者?



- (A)地形崎嶇起伏 (B)土壤鬆散流失 (C)氣候乾燥少雨 (D)河川定期氾濫。

答案: (C)

解析: 此圖為分布於乾燥氣候區的坎井。

3. () 印度教、佛教、伊斯蘭教、基督宗教為全球四大宗教。附圖為世界部分簡圖中, 甲宗教最可能為下列何種?



- (A)佛教 (B)印度教 (C)伊斯蘭教 (D)基督宗教。

答案: (C)

解析: 伊斯蘭教主要分布在西亞、中亞、北非及南洋群島。

4. () 非洲因為開發的時間較晚, 而曾有「黑暗大陸」之稱。事實上該地區在古代曾有偉大的大河文明出現, 為當地帶來了進步的農業活動, 並留有金字塔等人類遺跡。請問: 上文中所指的非

洲? (A)肯亞 (B)南非 (C)埃及 (D)衣索比亞。

答案: (C)

解析: 埃及在尼羅河沿岸發展出古文明。

5. () 民初以來, 中外與地方銀行各種貨幣並存, 重量不一, 成色雜亂的現象, 直到何時才改善? (A)湖北軍政府成立時 (B)五四運動時 (C)十年建設期間 (D)抗戰勝利後。

答案: (C)

解析: (C)十年建設期間發行法幣。

6. () 電影《活著》裡有一幕是主角的女兒出嫁, 男方帶來的聘禮全部都是《毛語錄》, 儀式結束後眾人開始齊聲唱歌, 歌詞裡提到天大地大不如黨的恩情大, 爹親娘親不如毛主席親。請問: 女兒出嫁的時間大概是下列何時? (A)中共建國初期 (B)大躍進 (C)改革開放 (D)文化大革命。


答案: (D)

解析: 文化大革命時, 毛澤東在中國進行一系列的造神運動, 地位達到最高峰。

7. () 附圖中的深色色塊區域為某一個國際組織的會員國分布範圍。請問: 該組織的會旗為何?



(A)



(B)



(C)



(D)



答案：(A)

解析：地圖上深色塊國家為東南亞國家協會的會員國分布圖，故選(A)。

8. () 我國《刑法》明文規定刑罰目的與種類，由附圖對話推論，該名候選人當時受到的刑罰最可能為下列何者？



(A)沒收 (B)拘役 (C)罰金
(D)褫奪公權。

答案：(D)

解析：無法擔任公職候選人表示其被判處褫奪公權之刑罰。

9. () 巧雁挑選一則新聞解釋責任能力與犯罪行為處罰間的關係，根據新聞內容，犯罪集團主謀的說法應是基於下列何者？

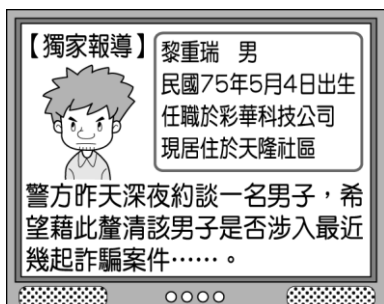
警方逮捕犯罪集團成員十數人，主謀表示專門吸收 12、13 歲的國中生犯案，利用他們販毒或是交付贓物，因為即使被抓，也不會受到《刑法》制裁。

(A)年滿 80 歲以上者、瘡啞人，為得減輕其刑的範圍 (B)因精神障礙導致無法辨識行為違法者，在《刑法》上不罰 (C)因心智缺陷導致辨識違法能力減低者，得減輕處罰 (D)未滿 14 歲者，心智尚未成熟，不以《刑法》處罰。

答案：(D)

解析：新聞中提到吸收國中生的年齡未滿 14 歲，屬於無責任能力人。

10. () 附圖為花花電視臺所播出的畫面，該電視臺的播報方式已違反下列何項概念？



(A)誠實信用原則 (B)無罪推定原則 (C)契約自由原則 (D)權利禁止濫用原則。

答案：(B)

解析：為了維護人權，被告未經審判證明有罪確定前，推定其為無罪，因此在判決確定前，不應公布當事人長相、姓名、住址、職業等。

11. () 「具有殖民地背景的地區，常常發展出以出口導向為目的，需要大量勞工及資金的農業活動……。」文中所述的農業類型，最可能是下列哪一項？〔96.第二次基測〕 (A)游耕農業 (B)綠洲農業 (C)熱帶栽培業 (D)地中海型農業。

答案：(C)

解析：熱帶栽培業的發展是受到殖民地式經濟型態的影響，大部分用來栽種咖啡、可可等作物。

12. () 都市發展的起源各不相同，若依發展成因來分，東南亞的大都市，如雅加達、仰光、胡志明市、新加坡等，都屬於哪一類型的都市？ (A)軍事型 (B)宗教型 (C)礦產型 (D)港埠型。

答案：(D)

解析：東南亞過去經歷長期的殖民統治，當時的殖民者為了運送物資，建設許多港埠型都市。

13. () 東南亞國家組成東南亞國家協會的區域組織，目前最主要的目的為增進下列何者的區域整合？ (A)經濟 (B)外交 (C)環保 (D)貨幣。

答案：(A)

解析：東南亞國家協會主要在增進經濟的區域整合。

14. () 印度哪一個都市因為軟體工業相當發達，因此被稱為「印度矽谷」？ (A)孟買 (B)新德里 (C)邦加羅爾 (D)加爾各答。

答案：(C)

解析：印度邦加羅爾軟體工業發達，被稱為「印度矽谷」。

15. () 印度人口眾多，為了提供充分的糧食而在乾燥地區從事灌溉。請問：這種土地利用方式最可能形成下列哪一種環境問題？ (A)水土流失 (B)土壤鹽鹼化 (C)水質優氧化 (D)地層下陷。

答案：(B)

解析：印度在乾燥區從事灌溉，會形成土壤鹽鹼化。

16. () 非洲大陸各地區呈現南北差異的區域特色，位於撒哈拉沙漠以南的地區，主要族群為何？ (A)拉丁人 (B)因紐特人 (C)阿拉伯人 (D)非洲黑人。

答案：(D)

解析：沙漠以南地區主要為黑人分布。

17. () 北非國家的主要民族為下列何者，因此呈現出與其他地區不同的文化特色？ (A)印第安人 (B)非洲黑人 (C)阿拉伯人 (D)因紐特人。

答案：(C)

解析：北非和西亞交流頻繁，目前當地居民以阿拉伯人為主。

18. () 漠南非洲的經濟發展條件潛力甚大，然而若要前往當地投資設廠時，所遇到的最大風險為下列何者？ (A)勞力不足 (B)原料缺乏 (C)土地不足 (D)內戰政變。

答案：(D)

解析：漠南非洲的政局不穩，所以經常有內戰，為當地經濟發展的阻礙。

19. () 清末中國遭受列強不斷的侵略，因而產生了一連串的改革運動，其次序的排列為何？ (A)自強運動、戊戌變法、立憲運動、武昌起事 (B)自強運動、立憲運動、戊戌變法、武昌起事 (C)戊戌變法、武昌起事、自強運動、立憲運動 (D)立憲運動、戊戌變法、武昌起事、自強運動。

答案：(A)

解析：自強運動—英法聯軍後、戊戌變法—甲午戰爭後、立憲運動—日俄戰爭後、武昌起事—1911年。

20. () 許多大型活動都會設計獨特的圖案和口號，一方面宣示主張，一方面加強印象，政治活動也是如此。下列何者是五四運動時的代表性口號？〔100.北北基〕 (A)外爭主權，內除國賊 (B)停止剿共，一致抗日 (C)推翻滿清，建立民國 (D)革命無罪，造反有理。

答案：(A)

解析：五四運動時，北京大學生發起遊行示威，提出「收回山東權利」、

「廢除二十一條」、「外爭主權，內除國賊」等訴求。

21. () 中國對日的八年抗戰，最後中國雖然獲勝，但卻造成中國3,500萬人以上死傷，直接和間接經濟損失達6,000億美元。請問：關於八年抗戰的敘述，下列何者正確？ (A)中國採速戰速決，以對抗日本之持久戰 (B)中國在西安事變發生後，才獲得盟國的支援 (C)抗戰結束於美國投下原子彈，逼迫日本宣布無條件投降 (D)抗戰時期國民政府遷都成都。

答案：(C)

解析：(A)中國採「以空間換取時間」對抗日本的「速戰速決」策略 (B)珍珠港事件後 (D)重慶。

22. () 民國初年，中國就一直積極和列強交涉，企圖終止某些不合理的待遇，最後終於在第二次世界大戰期間如願以償。請問：不合理的待遇指的是下列何者？ (A)被外國收取高額關稅 (B)種族歧視 (C)不平等條約 (D)無法獲得殖民地。

答案：(C)

解析：中華民國在第二次世界大戰期間，解除清末以來的不平等條約。

23. () 小惠在爺爺的遺物中發現一張舊紙鈔，如附圖，她發現這張紙鈔的面額比現今市面上流通的鈔票面額大很多。請問：這張舊紙鈔的面額代表當時中國面臨何種問題？



(A)嚴重通貨膨脹 (B)政府貪汙腐化 (C)戰爭大獲全勝 (D)憲政實施順利。

答案：(A)

解析：金圓券的發行是國民政府為解決嚴重通貨膨脹而推動的政策。

24. () 近年來中國經濟、社會各方面均有高度成長，但連帶的也產生許多問題。請問：這種轉變與何人開始實施的改革開放措施有關？ (A)毛澤東 (B)孫中山 (C)蔣中正 (D)鄧小平。

答案：(D)

解析：鄧小平推動改革開放。

25. () 美、蘇領導的反共國家與共黨國家互相對抗，形成冷戰的局面是在哪一次戰爭之後？ (A)第一次世界大戰 (B)第二次世界大戰 (C)清法戰爭 (D)日俄戰爭。

答案：(B)

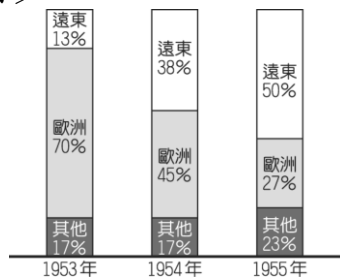
解析：二次大戰後，全球在美國與蘇聯各自策動下，形成反共與共產國家對峙的二元陣營。

26. () 1950 年韓戰爆發，美國政府提供臺灣軍事及經濟援助，對當時物資匱乏、資金短缺的臺灣而言，無疑是一場及時雨。美國當時援助臺灣的根本原因最可能是下列何者？〔100.第一次基測修訂〕 (A)支援對抗日本的盟國 (B)圍堵共產勢力的擴張 (C)轉移油價居高不下的焦點 (D)防範軍國主義的蔓延。

答案：(B)

解析：面對共產勢力的擴張，美國藉由協防西太平洋地區，逐漸打造出一條亞太圍堵體系，試圖限制共產勢力的發展。

27. () 西元 1950 年韓戰爆發後，美國對外實施經濟及軍事援助。附圖為 1953 年至 1955 年間美國軍援分配情形圖。我們可以由圖中得出何種資訊？〔96.第一次基測〕




- (A)歐洲對世界的影響力與日遞減
(B)美國日漸重視遠東地區的重要性
(C)美國對「其他」地區的援助比例日益縮減
(D)美國對遠東地區和「其他」地區的援助比例，始終占總援助比例一半以上。

答案：(B)

解析：韓戰爆發後，美國日漸重視遠東地區的重要性。

28. () 君雅在同學會聚餐時分享自己的近況，如附圖所示，關於她所服務的工作內容，下列敘述何者正確？




- (A)被視作是正義的最後一道防線
(B)若不成立，亦不可再提出訴訟
(C)成立後，效力等同於法院判決
(D)雙方須自行委任律師以利進行。

答案：(C)

解析：(A)指民事訴訟(B)調解不成立，可再提出訴訟(D)無此規定。

29. () 有形正在翻閱自圖書館借來的書，如附圖。根據圖中內容判斷，此書的書名應為下列何者？



- (A)司法特考 2022 試題大補帖
(B)刑事證據法及救濟程序 (C)智慧財產行政程序與救濟 (D)圖解實用民事法律。

答案：(C)

解析：圖中提及專利「訴訟」為行政救濟的方法，故選(C)。

30. () 依照《兒童及少年福利與權益保障法》規定，父母、監護人對兒少應負保護的責任，若是父母、監護人未善盡職責，可能會受到什麼處罰？(甲)罰鍰(乙)沒收(丙)親職教育輔導(丁)褫奪公權 (A)甲乙 (B)乙丙 (C)甲丁 (D)甲丙。

答案：(D)

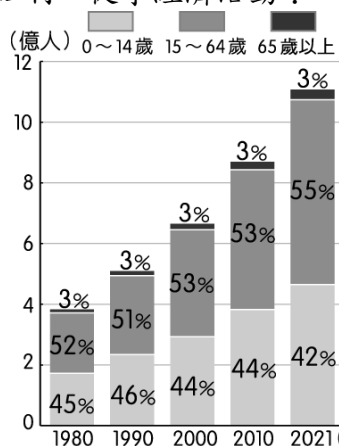
解析：若父母、監護人未善盡保護之責，將面臨罰鍰、親職教育輔導等行政罰則。

31. () 「這個地區早期被稱為 Gangaridai，意謂『恆河位於土地的心臟地帶』。雖然現在當地居民的主要宗教信仰，已經由印度教轉變為伊斯蘭教，也不再視恆河為聖河，但是河水仍然影響著人們的衣食住行。」上述地區的範圍應約略等於現今哪一國家？〔100.第二次基測〕 (A)印度 (B)孟加拉 (C)巴基斯坦 (D)斯里蘭卡。

答案：(B)

解析：伊斯蘭教的聖地為麥加、印度教的聖河為恆河。(A)為印度教(C)為印度河流域(D)為佛教。

32. () 漠南非洲地區的經濟發展和其人口結構的關係相當密切，下列四個年代中，何者的扶養比最低，較有利於累積人口紅利，從事經濟活動？



- (A) 1980 (B) 1990 (C) 2000 (D) 2021。

答案：(D)

解析：扶養比為(幼年+老年)／壯年，故以 2021 年的壯年人口比例最高，扶養比最低。

33. () 小筠寫了一部劇本，內容與處理一件民事糾紛有關，她將劇本拆成四份，分給負責演出的同學背臺詞，部分內容如附表。依照我國現行法律判斷，這四位同學演出的先後順序應為下列何者？

柔柔	即將進入訴訟階段，因此必須提出對自己有利的證據。
大毅	他昨天竟然反悔，早知道一開始就拒絕私下和解！
建霖	現在由調解委員會為雙方進行調解。
瑞恬	官司進行到一半，您要不要考慮訴訟上和解？

- (A) 建霖、大毅、柔柔、瑞恬
(B) 柔柔、瑞恬、大毅、建霖
(C) 大毅、建霖、柔柔、瑞恬
(D) 柔柔、瑞恬、建霖、大毅。

答案：(C)

解析：由臺詞內容可知最初採私下和解，由於民事訴訟為最後的手段，因此調解在訴訟之前，在訴訟過程中可選擇訴訟上和解。

34. () 附圖為公民課時兩位同學的對話，根據對話內容判斷，與下列哪一概念相關？

《憲法》第 14 條規定人民有集會結社之自由。

立法院制定《集會遊行法》，以落實《憲法》之精神。

- (A) 體現《憲法》的最高性 (B) 行政法是一部獨立的法典 (C) 行政法是《憲法》的具體化 (D) 政府應依法行政。

答案：(C)

解析：《集會遊行法》是《憲法》第 14 條內容的具體化。

35. () 下列是四位同學正在討論關於「救濟途徑」的對話，哪些人的觀念正確？

小奇：刑事案件若是由檢察官所提起的訴訟，稱為公訴。

阿軒：人民只要不服行政機關的處分，就可以直接到法院提出行政訴訟。

小美：被害人委任律師向地方法院提起訴訟，稱為「告訴」。

阿茂：當私人間發生權利義務糾紛時，人民可提起民事訴訟。

- (A) 阿軒、阿茂 (B) 阿軒、小美
(C) 小奇、小美 (D) 小奇、阿茂。

答案：(D)

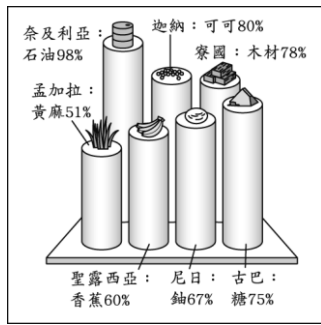
解析：阿軒：人民如果不服行政機關的行政處分，須先經由原處分機關向訴願管轄機關提起「訴願」；若對訴願結果不服，才可提出行政訴訟。小美：被害人委任律師向法院提起的訴訟，稱為「自訴」。

36. () 東南亞各國塞車問題嚴重，以印尼為例，雅加達平均每天有 300 萬人進城上班，通勤時間是 1~2 小時。請問：當地可以興建何種交通系統，以減少城市內的塞車之苦？ (A) 鐵路 (B) 高鐵 (C) 捷運 (D) 飛機。

答案：(C)

解析：捷運系統可以減少開車上班的車輛。

37. () 附圖顯示某類型國家的單一產品，在某年占該國出口總額的百分比，如黃麻占孟加拉出口總額的 51%。此類型的國家，最可能具有下列哪一項共同的特色？〔99.第二次基測〕

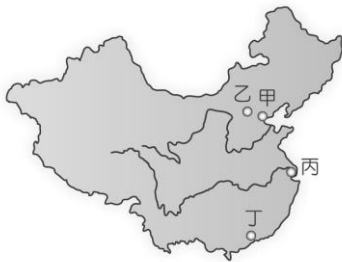


(A)貿易巨額出超 (B)外匯收入不穩定 (C)經濟發展程度高 (D)產品附加價值高。

答案：(B)

解析：圖中國家的出口品多集中在單一產品，一旦該產品的出口受影響，將導致外匯收入不穩。

38. () 「西元 1989 年，成千上萬的學生在北京市中心的天安門廣場集會，表達對國家領導的不滿，並要求民主改革……。」請問：文中的事件發生在附圖哪一個地區？〔95.第一次基測〕



(A)甲 (B)乙 (C)丙 (D)丁。

答案：(B)

解析：甲為天津、乙為北京、丙為上海、丁為廣州。

39. () 妍秀近期收看一部戲劇，劇情以法庭為背景，講述原本是為了錢而成為檢察官的仁漢，在和法官珊玲相遇後，兩人聯手打擊內部黑幕，實現正義的故事。請問：下列哪一句最可能是珊玲的臺詞？ (A)終於蒐集到關鍵證據，但我無權決定起訴與否 (B)我偵查此案後因證據不足，作成不起訴處分書 (C)我的委託人是無辜的，請庭上能依法做出公正的判決 (D)被告犯後坦承犯行，深具悔意，我會參考後做出審判。

答案：(D)

解析：(A)警察(B)檢察官(C)律師。

40. () 根據以下通訊內容判斷，下列敘述何者正確？

聊天中

阿柳：聽說小彩和別人進行性交易被抓

到。

奇奇：對啊，現在被安置中。

(A)此事件將依《兒童及少年福利與權益保障法》處理 (B)小彩年齡應在 18 歲至 20 歲之間 (C)性交易的對象將受到刑罰處分 (D)審理的機關為警察局。

答案：(C)

解析：(A)《兒童及少年性剝削防制條例》(B)18 歲以下(D)法院。