

一、單題 (每題 2.5 分, 共 100 分)

1. () 根據日本的統計資料顯示, 日本勞工的平均月薪約為 5,000 美金, 遠超過臺灣的 1,250 美金。請問: 日本企業目前多採取何種經營方式以維持市場上的競爭力? (A) 跨國企業結構 (B) 引進優質勞工 (C) 降低環保標準 (D) 加入歐盟市場。

答案: (A)

解析: 日本企業多利用委外生產及跨國企業方式, 以降低成本並提高國際競爭力。

2. () 張擇端的《清明上河圖》歷時十年才完成, 是寫實風俗畫的傑作, 成功地描繪出汴京城內及近郊在清明時節社會上各階層的生活景象, 對人物、建築物、交通工具、樹木、水流之間的相互關係的處理, 非常巧妙, 具有極大的研究價值。請問: 《清明上河圖》所呈現的社會風貌主要為下列何者? (A) 宋代社會可容納各種民族文化, 而呈現多元色彩 (B) 西域文化傳來的文化, 對宋代社會經濟影響很大 (C) 宋代商業經濟十分發達, 城市生活風貌多姿多采 (D) 元代在各地廣設驛站, 促進歐亞之間貿易的流通。

答案: (C)

解析: 從北宋張擇端的《清明上河圖》可以看出當時城市繁榮的景象。

3. () 「十年寒窗無人問, 一舉成名天下知。」此一諺語, 是哪一種選才任官制度建立後, 才可能開始流傳? (A) 西周的封建制度 (B) 漢朝的推舉孝廉措施 (C) 魏晉的九品官人之法 (D) 隋唐以來的科舉制度。

答案: (D)

解析: 士人報名參加科舉考試, 考取者得任官職, 平民入仕的機會逐漸增加。

4. () 魏老師出題考同學的「朝代觀念」, 她列出以下四件史事, 哪件史事不是發生於北宋? (甲) 實施差別待遇的種族政策 (乙) 泉州清淨寺初建 (丙) 靖康之禍 (丁) 澶淵之盟。哪件史事不是發生於北宋? (A) 甲 (B) 乙 (C) 丙 (D) 丁。

答案: (A)

解析: (甲) 發生於元代

5. () 三位朋友正在討論人民參與投票的方式, 根據附圖中的對話內容, 這類投票方式應是為了落實《憲法》中人民的何種權利而產生?



- (A) 選舉、罷免 (B) 創制、複決 (C) 罷免、創制 (D) 複決、罷免。

答案: (B)

解析: 由對話內容可知, 三人正在討論公民投票。我國為實現直接民主的理念, 因此制定《公民投票法》, 讓人民可用創制或複決方式, 直接參與公共政策的決定與法案的制定。

6. () 現今中國的熱門景點——八達嶺長城, 是明朝為了抵禦外族而興建。當時的皇帝為了抵禦外族還做了下列何種措施? (A) 將首都遷至北京 (B) 任用海商集團擔任貿易角色 (C) 任用李自成北伐 (D) 派遣鄭和下西洋。

答案: (A)

解析: 明成祖為了抵禦蒙古將首都遷至北京, 修築長城。

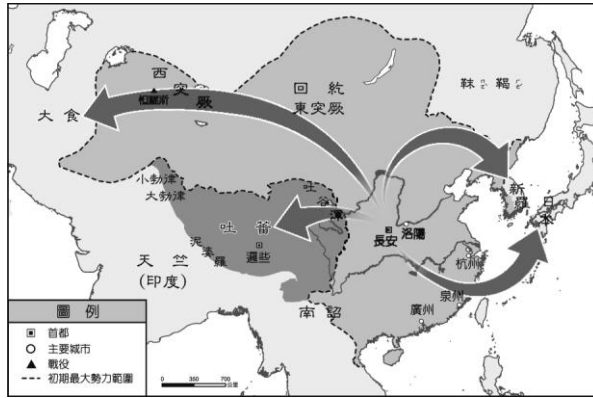
7. () 阿泰是一個生活在元代廣州的漢人小販。請問: 下列何者不可能是他的遭遇? (A) 飽受種族歧視之苦, 導致看到蒙古人就畏畏縮縮 (B) 因為優秀的理財能力, 被拔擢成為財政大臣 (C) 他的父執輩可能曾經被南宋統治 (D) 最後因為物價飛漲, 選擇加入反抗軍。

答案: (B)

解析: 元代時居住在中國南方的漢人被劃分為南人, 在社會上飽受歧視, 不可能擔任財政大臣。

8. () 嘉禾在《中國歷史地圖集》中看到附圖, 若根據圖中箭頭的方向來看, 此圖的標題應該為何

?



(A)西漢張騫出使西域圖 (B)秦國兼併各國示意圖 (C)佛教傳入中國示意圖 (D)唐文化向外傳播示意圖。

答案：(D)

解析：唐朝文化向外傳播至日本、朝鮮、大食、吐蕃。(A)張騫出使西域圖應只至中亞(B)秦國統一只在中國疆域內(C)佛教傳入中國為由外往中國傳遞。

9. () 美國蘋果公司總裁庫克連續三年前往中國，並接受中國官媒新華社專訪，展現前所未見的誠意，庫克在專訪中表示中國將超越美國，成為蘋果公司全球最大市場。請問：中國成為蘋果公司的主力市場，與下列哪一條條件相關？ (A)國民所得高 (B)消費人口多 (C)工業生產重鎮 (D)交通運輸方便。

答案：(B)

解析：中國人口眾多，因此市場廣大。

10. () 根據附圖，這位部長的回應可說明民主治理所具備的哪一項特色？



(A)法治政治 (B)政黨政治 (C)民意政治 (D)責任政治。

答案：(D)

解析：民主國家的政府施政必須向人民或國會負責，因此政府官員應為失敗的政策負起責任

11. () 老師利用公民課的時間，帶領同學到監察院參觀，並聽取介紹監察院職權的簡報，下列何者可能會出現在簡報的說明中？ (A)審理法律是否違反《憲法》 (B)糾正行政機關的不當施政 (C)代表人民監督行政權 (D)掌理公務人員的退休事宜。

答案：(B)

解析：(B)監察院的職權包括糾舉、彈劾違法或失職的公務人員，並糾正行政機關的不當施政。(A)司法院大法官(C)立法院(D)考試院銓敘部。

12. () 下列為有關中國人遷移的相關敘述，請根據內容判斷，資料中兩地皆是因為下列何者的關係而造成人口遷移？

(1)中國明清時期，因東南沿海地區人口急速增加，部分居民遠渡重洋移居東南亞。
(2)中國文化重心在北方，但因饑荒或戰亂等因素，部分人民向南遷移。

(A)人口拉力 (B)人口推力 (C)文化擴散 (D)農業技術進步。

答案：(B)

解析：人口急速增加、饑荒或戰亂等因素，皆屬於人口推力。

13. () 中國喝茶的歷史有五千年之久，形成獨特的品茶文化。影杉前往中國茶葉生產最多的地方，並在當地打卡（位置如附圖）。請問：當地由於屬於何種氣候類型，極為適宜種植茶葉？



(A)副熱帶季風 (B)溫帶季風 (C)高地氣候 (D)乾燥氣候。

答案：(A)

解析：東部為季風氣候區，而南端氣溫較高，屬於副熱帶季風氣候。

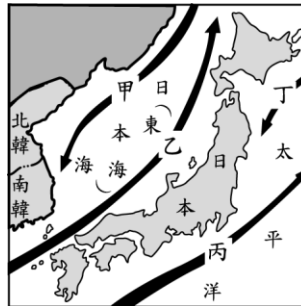
14. () 「K-pop」泛指南韓的流行音樂界，在 2000 年後席捲亞洲各國，甚至進軍歐美流行音樂界，成為一股新興風潮，並帶動南韓的服飾、彩妝等相關產業發展，其經濟收益相當可觀。請問：南韓的時尚產業多藉由下列何種的發展策略來提高其附加價值，增加其經濟產值？

(A)大量生產以降低售價，提高銷量 (B)品牌化的經營模式，提高其附加價值 (C)結合該國傳統文化，強調在地化的特色 (D)國家關稅保護措施，保障國內市場銷量。

答案：(B)

解析：該產業主要以對外擴展為主，且以品牌化的方式來提高其價值。

15. () 附圖為東北亞洋流流動方向圖，下列哪些洋流對日本冬季時較為溫暖的影響最大？



(A)甲乙 (B)甲丁 (C)乙丙 (D)丙丁。

答案：(C)

解析：乙、丙由南向北流為暖流性質，影響氣候較為溫暖。

16. () 朝鮮半島南部年可二穫，而北部僅年可一穫，最主要的影響因素為何？ (A)緯度高低 (B)降水量多寡 (C)洋流性質 (D)土壤種類。

答案：(A)

解析：高緯地區氣溫較低，因此生長季較短。

17. () 附圖中的托克遜縣，當地年降水量僅 5.9mm，為中國降水量最少的地區。由托克遜縣的所在位置推估，當地乾燥少雨的原因最主要為下列何者？

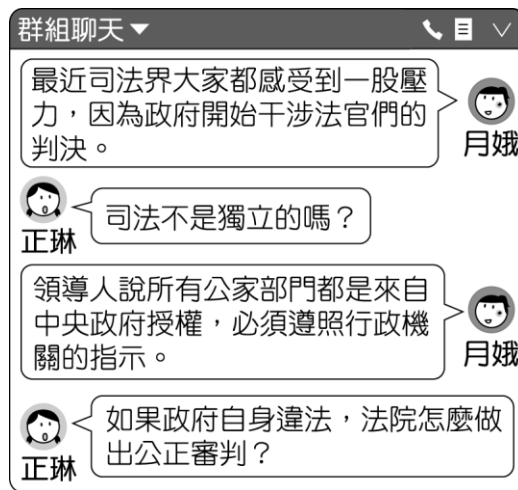


(A)地處高緯 (B)距海遙遠 (C)地勢高峻 (D)河川流向。

答案：(B)

解析：圖中地點因為距海遙遠，因此水氣少而氣候乾燥。

18. () 某一國家的網友在社群網站上討論時事，根據附圖對話內容判斷，網友們擔心的問題最可能為下列何者？



(A)行政、司法相互制衡 (B)犯罪事件層出不窮 (C)政府權力過度集中 (D)人民對政治的冷漠。

答案：(C)

解析：行政權握有專權，未能做到權力分立。

19. () 幾位同學正在區分國家與政府各面向的差異，下列何人的說明完全正確？ (A)艾杭：國家是政府構成要素之一，範圍較小 (B)澄琪：國家容易隨著制度變遷而改變 (C)珈彤：國家的權力對外具有最高性，對內具有獨立性 (D)勳祐：政府為國家的決策單位，以公權力執行政策。

答案：(D)

解析：(A)國家構成要素包含政府，範圍較大(B)政府才會隨制度變遷而改變(C)對外具有獨立性，對內具有最高性。

20. () 清帝國為管理及防範外國商人，訂下許多通商限制。到了18世紀中期以後，英國因為工商業快速發展，希望開拓中國市場，試圖打破清帝國訂下的限制。請問：英國當時為解決此問題，曾做出何種努力？ (A)接受泉州一口通商 (B)積極推銷鴉片 (C)派遣特使來華 (D)臣服稱臣納貢。

答案：(C)

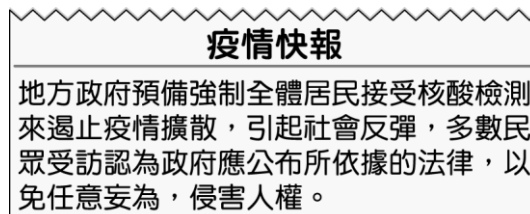
解析：為解決中國貿易問題，英國曾兩次派特使來華。

21. () 張騫是中國著名的外交家和探險家。首先開闢了一條經西域、中亞，通往北非、歐洲的道路，此即後世所稱的絲綢之路。西漢歷史學家司馬遷將張騫通西域的壯舉稱為「鑿空」，形容他開通東西兩方的壯舉。請問：皇帝派遣張騫出使西域的主要目的是什麼？ (A)聯絡西域諸國夾擊匈奴 (B)護送漢朝公主與匈奴和親 (C)積極發展對西域各國的貿易 (D)說服南匈奴降漢以移居邊境。

答案：(A)

解析：漢武帝時國勢強盛，開始積極對付匈奴，派遣張騫出使，聯絡西域諸國共同夾擊匈奴

22. () 楷卉引用一則地方政府宣布防疫措施的相關報導作為報告輔材(如附圖)，請判斷下列何者最可能為楷卉報告的主旨？



(A)為顧及公眾利益，政府必要時可違反法律 (B)人民應參與定期選舉，選出代表制定法律 (C)政黨應以民意為基礎，推動政府進行改革 (D)人民必須遵守法律，但政府亦應依法行政。

答案：(D)

解析：政府有執行政策的公權力要求人民配合，但必須依法有據。

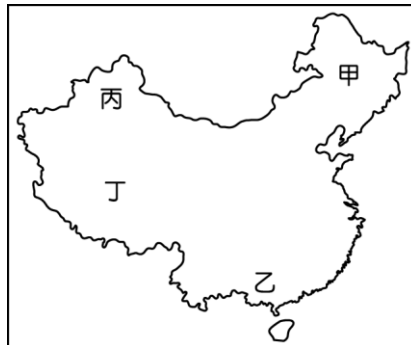
23. () 楊振寧是美籍華裔的第一位諾貝爾獎得主(物理學)，他曾來臺演講，指出：「西元1600年到1900年，中國抗拒引入西方科學。」、「西元1607年《幾何原本》在中國只譯出前六

卷，到西元 1857 年才譯出後九卷，前後相隔 250 年之間，歐洲不但誕生了近代科學，也徹底改變了生產方式。」請問：造成中國與西方的文化交流中斷，是因哪位君王驅逐傳教士離華所造成？ (A)明太祖 (B)清康熙皇帝 (C)清雍正皇帝 (D)清乾隆皇帝。

答案：(C)

解析：因傳教士涉及宮廷政爭，使雍正皇帝下令全面禁教。

24. () 受到太陽輻射影響，中國夏季各地普遍高溫。請問：盛夏季節時，附圖中哪一個地方的溫度較低？



(A)甲 (B)乙 (C)丙 (D)丁。

答案：(D)

解析：丁地是地勢高聳的青藏高原。

25. () 西方有句法諺：「有權利，必有救濟。」在我國憲法第 16 條規定：「人民有請願、訴願及訴訟的權利」，即所謂的救濟權。下列關於救濟權的敘述，何者正確？ (A)請願是人民針對政府違法或不當的行政處分提起救濟 (B)訴願是指人民對於政策或利益，向主管機關或民意機關陳述願望 (C)請願、訴願與訴訟都是經由法院尋求救濟，希望變更不當的政策或處分 (D)訴訟是人民認為權利遭受不法侵害時，可以請求法院判決，以排除侵害或獲得賠償。

答案：(D)

26. () 某位清朝知識分子上書痛陳：「棄臺民之事小，散天下民之事大；割地之事小，亡國之事大。」故籲請光緒皇帝「下詔鼓天下之氣，遷都定天下之本，練兵強天下之勢，變法成天下之治。」請問：這位知識分子為下列何人？ (A)曾國藩 (B)李鴻章 (C)林則徐 (D)康有為。

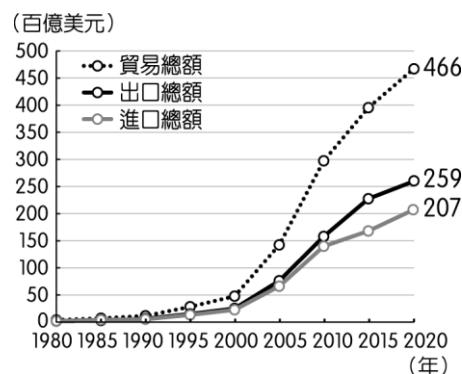
答案：(D)

解析：光緒皇帝接納康有為、梁啟超的建議，推動戊戌變法。

27. () 阿強趁暑假到江西探訪親戚時，看到一份祖先在明末清初的生活手記。在這份手記中，可能會出現何種內容？ (A)出門做生意時，紙幣最實用，銅錢、銀兩根本用不上 (B)我雖對天主教有興趣，但不准祭孔、祭祖，實在讓我左右為難 (C)遇到乾旱荒年，米糧欠收，要是有其他可以當作糧食的作物就好了 (D)景德鎮的製瓷技術專業、分工細密，看來可以在這裡經營製瓷生意。

答案：(D)

28. () 附圖為中國的進出口貿易總額變化圖，近年持續呈現出超，下列敘述何者與中國貿易情形不同？



- (A)臺灣對美國是貿易順差 (B)香港出口依存度超過 100% (C)東協進口總值大於出口總值 (D)印度外匯存底升至 5 千億美元。

答案：(C)

解析：(A)(B)(D)為出超(C)為入超。

29. () 老師請同學說明《憲法》的「原則性」，下列何人的發言正確？ (A)小菲：任何法律和命令抵觸《憲法》無效 (B)小福：《憲法》的法律位階最高 (C)小妮：《憲法》的修正程序較為困難與繁複 (D)小蒂：《憲法》的內容多半簡潔扼要。

答案：(D)

解析：(A)(B)最高性(C)固定性。

30. () 東周相對於西周，是一個劇烈動盪的時代，政治、經濟、社會、文化各方面都有所變動。請問：關於東周時代的變化，下列配對何者正確？ (A)政治：郡縣制度崩解 (B)社會：貴族沒落，平民崛起 (C)政治：王室強化對諸侯的統治 (D)社會：知識被貴族壟斷。

答案：(B)

31. () 秦嶺、淮河為中國境內重要的地理分界線，素有「南船北馬」及「南稻北麥」的分布特色。附表中哪一個地區位於秦嶺、淮河以北，最有利於小麥的生長？

地區	年降水量 (毫米)	一月月均溫 (°C)	七月月均溫 (°C)
甲	19	-8.1	33.2
乙	683	-5.0	25.4
丙	1,223	3.5	28.8
丁	2,290	20.4	28.0

(A)甲 (B)乙 (C)丙 (D)丁。

答案：(B)

解析：秦嶺、淮河以北為溫帶季風氣候，故選(B)。

32. () 中國境內的人口問題相當嚴重，早期為控制人口成長，出現了「寧可血流成河，不准超生一人」的標語。當時中國因經濟落後，醫療衛生水準低，其人口金字塔的型態接近下列何者？



答案：(D)

解析：(D)為低金字塔型結構，呈現高出生率及高死亡率的特色。

33. () 2020年新冠病毒疫情重創全球經濟，最早發生疫情的中國首當其衝，然而國際投資機構對於當地的都市有這樣的評價：「紮實的發展潛力將讓這些地區得以保有競爭力。」下列相關敘述，何者最為正確？ (A)北京為水運中樞，交通地位重要 (B)上海發展最早，為政治及經濟中心所在 (C)廣州位於海岸線中點，有利商品出口 (D)深圳鄰近香港，兩地間可相輔相成。

答案：(D)

解析：(A)上海位於中國海岸線與長江水運交會點(B)政治中心位於北京。

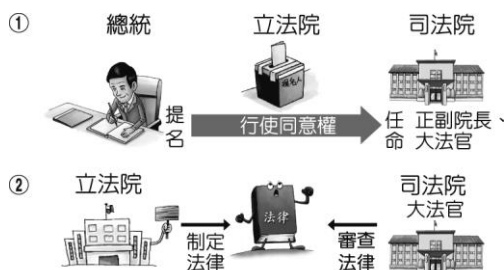
34. () 為促進臺北市與新北市整體發展，於互利合作之基礎上推動各項重大發展計畫及跨區建設，期透過雙方經驗交流與資源分享，共同攜手創造最大效益，並提供市民優質生活環境，成立「雙北合作交流平臺」。請問：「雙北合作交流平臺」的成立與下列何者敘述相關？

(A)中央政府與地方政府合作的重要性 (B)地方政府需要中央的統籌規畫與資源挹注 (C)地方政府協力推動中央政府的政策和法律 (D)公共事務龐雜，並非單一地方政府所能獨立應付。

答案：(D)

解析：題幹描述臺北市與新北市合作，未提及中央政府，故選(D)。

35. () 關於附圖中立法院與司法院間的互動關係，下列敘述何者正確？



(A) 立法院必須同意總統提名的司法院官員人選 (B) 司法院可對立法院制定的法律案提出覆議 (C) 立法院與司法院間存在制衡關係 (D) 未經總統核可，司法院不可解釋法律。

答案：(C)

解析：(A) 立法院可以不同意 (B) 行政院可以對立法院提出覆議 (D) 司法院解釋法律不須經過總統同意。

36. () 中日兩國都曾經閉關自守（鎖國）過，後來也都因著列強武力的威脅和侵逼而被迫開港通商。請問：關於中日這方面的歷史，下列的比較說明，何者敘述錯誤？ (A) 英國首先打開中國的門戶，而美國首先打開日本的門戶 (B) 兩國被迫打開門戶的時間都是發生在 19 世紀中期左右 (C) 兩國在外力的衝擊之下開港通商後均立即展開了變法圖強的改革 (D) 中國第一個改革自強運動，比日本明治維新的改革時間要早。

答案：(C)

解析：(C) 鴉片戰爭後，英國打開中國門戶，中國並沒有進行任何改革；而是在英法聯軍後，中國才展開第一個改革運動——自強運動。而日本是在美國打開門戶後，立即開始改革運動——明治維新。

37. () 小馨想在暑期時與好友一同旅遊，於是上網瀏覽觀光資訊。請問：下列她所瀏覽的四個景點中，哪一個地方的層級與其他三者不同？ (A) 「屏東縣」的墾丁 (B) 「南投縣」的日月潭 (C) 「花蓮市」的花蓮港 (D) 「基隆市」的和平島。

答案：(C)

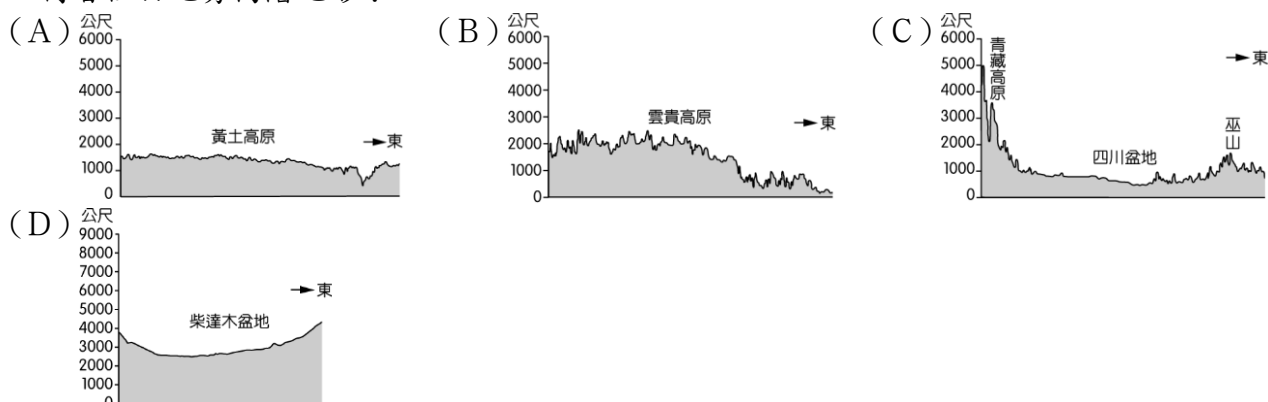
解析：(A)(B)(D) 縣(市) (C) 縣轄市。

38. () 匡志將選舉過程整理列出下列四項，其中唯一正確的是哪一項？ (A) 第一項：候選人須向內政部辦理參選登記 (B) 第二項：候選人舉辦競選活動並無特定期間 (C) 第三項：攜帶國民身分證（可用健保卡取代）、印章、投票通知單，前往投票 (D) 第四項：投票所計票結果交由主管選務機關統計後公告。

答案：(D)

解析：(A) 應向選務機關登記 (B) 各項競選活動都有規定期間 (C) 不可用健保卡代替。

39. () 中國地勢受到板塊活動的影響，形成高低起伏的高、中、低三階。請問：下列地形剖面圖中，何者位於地勢高階地形？



答案：(D)

解析：(A) 黃土高原 (B) 雲貴高原 (C) 四川盆地均位於第二級階梯。

40. () 清末中國在西方觀念影響下出現很大的改變，傳統男主外女主內在此時受到挑戰。請問：下列何種情形是針對該傳統觀念的改變？ (A) 放足成為普遍觀念 (B) 工廠開始雇用女工 (C) 新知識分子接受基督教信仰 (D) 拋棄傳統服裝，選擇旗袍。

答案：(B)

解析：清末中國傳統思想逐漸鬆動，男主外女主內的觀念開始改變，女子也能外出工作。